

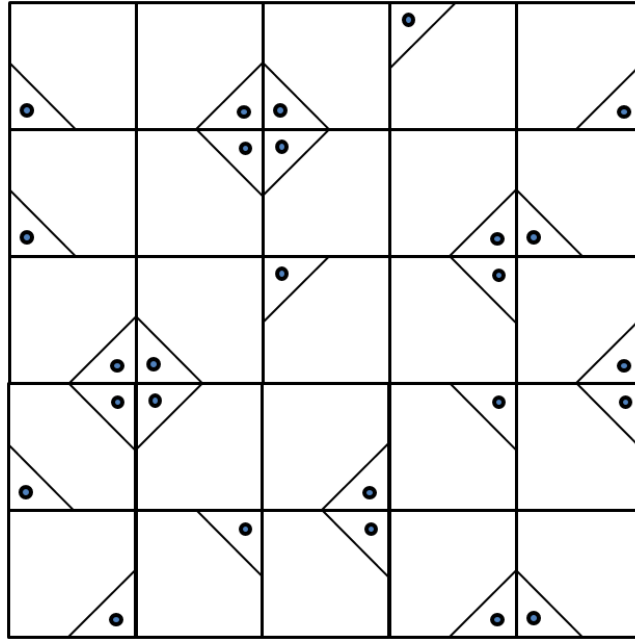


## CUADRADO IMPAR

- Sally ha hecho dos patrones diferentes usando cuadrados.
- Cada cuadrado está hecho con el mismo patrón que se ha girado, excepto un cuadrado que es el impar.
- ¿Puedes encontrar el cuadrado impar en cada patrón? Márcalo con una cruz.



## CUADRADO IMPAR RESPUESTAS

- Sally ha hecho dos patrones diferentes usando cuadrados.
- Cada cuadrado está hecho con el mismo patrón que se ha girado, excepto un cuadrado que es el impar.
- ¿Puedes encontrar el cuadrado impar en cada patrón? Márcalo con una cruz.

