

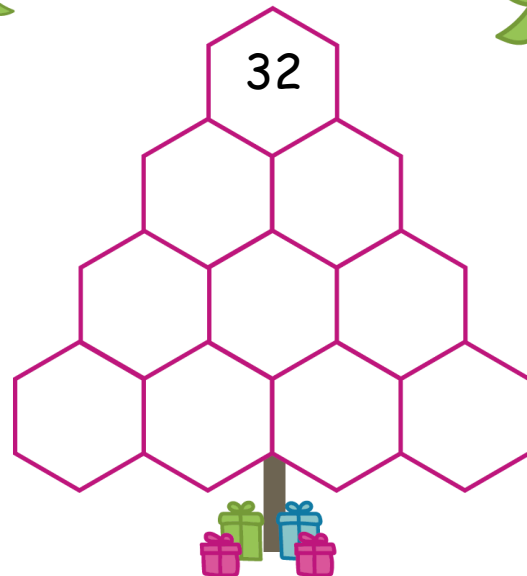
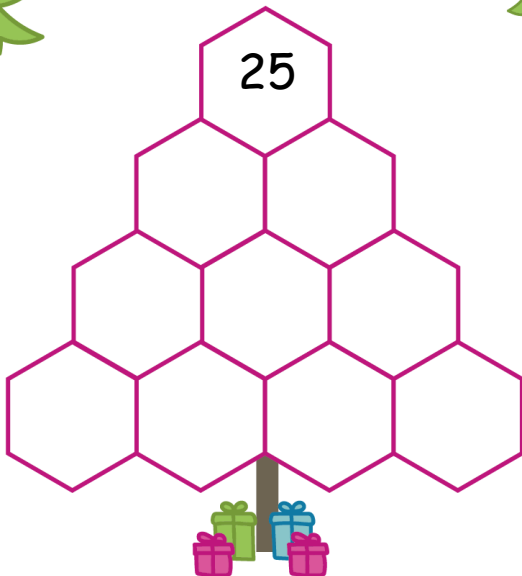
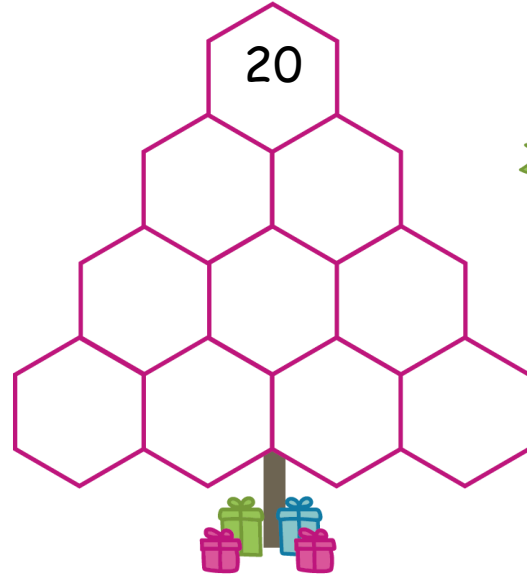
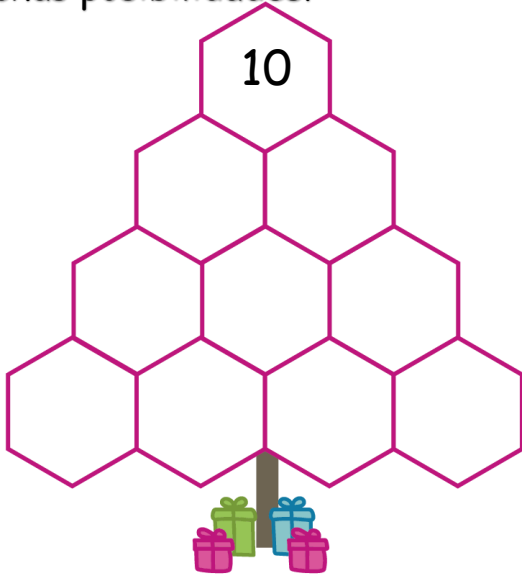


ÁRBOLES DE NAVIDAD DESAFÍO

#5



- Cada número es el total de los dos números que están debajo.
- ¡Encuentra una solución para cada uno de los árboles a continuación! ¡Hay muchas posibilidades!





ÁRBOLES DE NAVIDAD DESAFÍO

#5



RESPUESTAS

La fórmula para el total es $a + 3b + 3c + d = \text{número superior}$.
 P.ej. $a=2, b=1, c=1, d=2$ funcionará para que el primer árbol dé $2+3+3+2 = 10$

