










¿Qué animal u objeto Newton encontró entre 24 y 26?

## CONTANDO OBJETOS HASTA 30 - HOJA 1A - RESPUESTAS

Estos objetos se han puesto en grupos de 10. Ayuda a Newton a contarlos.

<p>1)</p> 	<p>¿Cuántos hay? 13</p>
<p>2)</p> 	<p>¿Cuántos hay? 17</p>
<p>3)</p> 	<p>¿Cuántos hay? 22</p>
<p>4)</p> 	<p>¿Cuántos hay? 25</p>
<p>5)</p> 	<p>¿Cuántos hay? 19</p>
<p>6)</p> 	<p>¿Cuántos hay? 28</p>
<p>7)</p> 	<p>¿Cuántos hay? 30</p>

¿Qué animal u objeto Newton encontró entre 24 y 26 ? Los cuadrados

