

CONTANDO OBJETOS HASTA 30 - HOJA 1C


Cuenta el número de objetos en cada imagen.

1)




¿Cuántos hay? _____

2)




¿Cuántos hay? _____

3)




¿Cuántos hay? _____

4)



¿Cuántos hay? _____

5)



¿Cuántos hay? _____

6)




¿Cuántos hay? _____

7)



¿Cuántos hay? _____

8)



¿Cuántos hay? _____




CONTANDO OBJETOS HASTA 30 - HOJA 1C


RESPUESTAS




¿Cuántos hay? **13**



¿Cuántos hay? **14**



¿Cuántos hay? **11**




¿Cuántos hay? **15**




¿Cuántos hay? **16**



¿Cuántos hay? **21**



¿Cuántos hay? **19**



¿Cuántos hay? **26**

