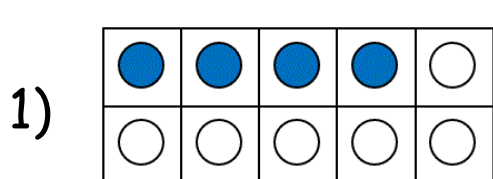


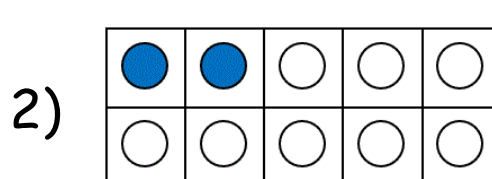
CONTANDO HASTA 10 - HOJA 11



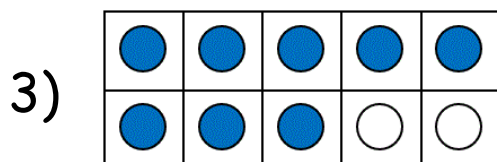
¿Cuántos hay en cada cuadro de decenas?



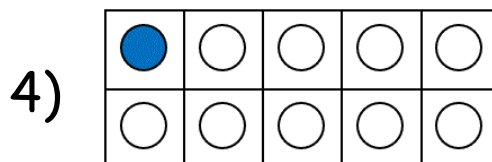
¿Cuántos
hay?



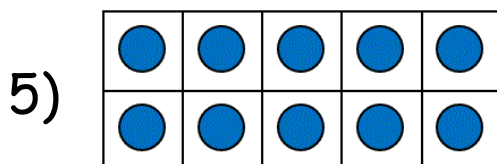
¿Cuántos
hay?



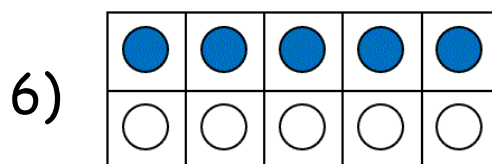
¿Cuántos
hay?



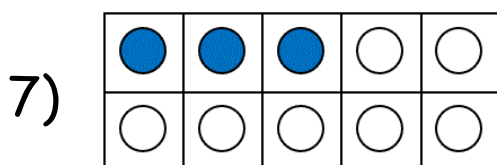
¿Cuántos
hay?



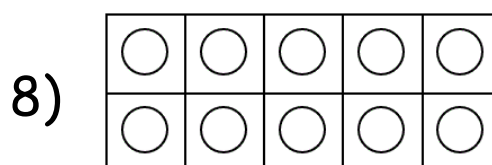
¿Cuántos
hay?



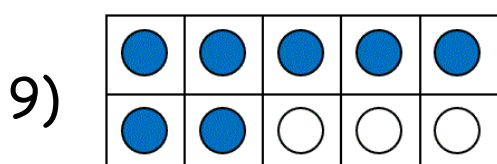
¿Cuántos
hay?



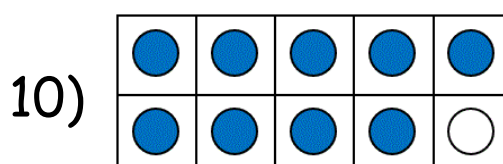
¿Cuántos
hay?



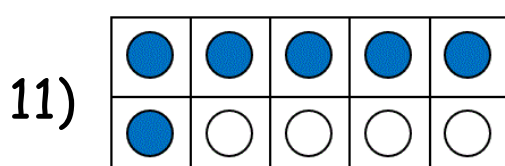
¿Cuántos
hay?



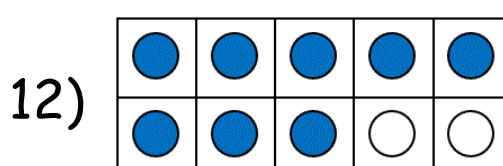
¿Cuántos
hay?



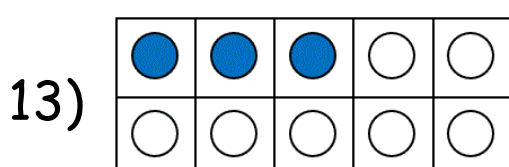
¿Cuántos
hay?



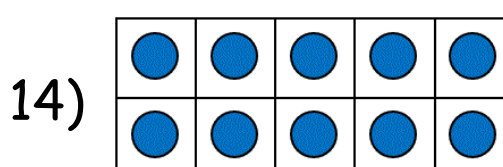
¿Cuántos
hay?




¿Cuántos
hay?



¿Cuántos
hay?



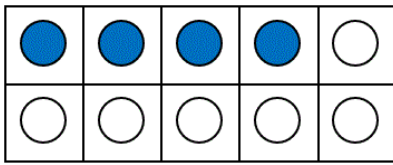
¿Cuántos
hay?



CONTANDO HASTA 10 - HOJA 11 - RESPUESTAS

¿Cuántos hay en cada cuadro de decenas?

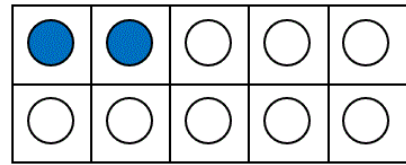
1)



¿Cuántos
hay?

4

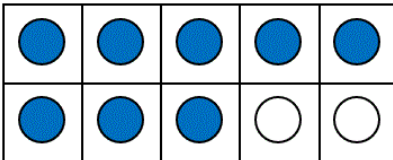
2)



¿Cuántos
hay?

2

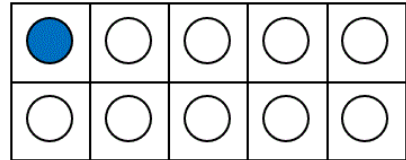
3)



¿Cuántos
hay?

8

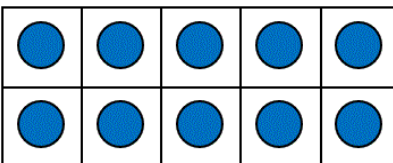
4)



¿Cuántos
hay?

1

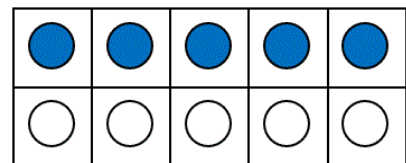
5)



¿Cuántos
hay?

10

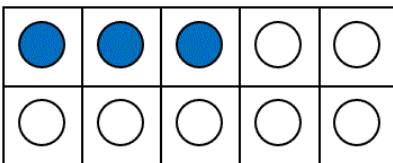
6)



¿Cuántos
hay?

5

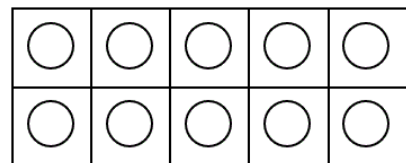
7)



¿Cuántos
hay?

3

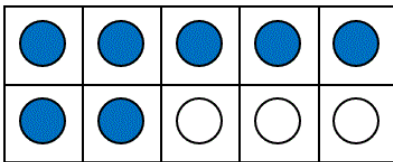
8)



¿Cuántos
hay?

0

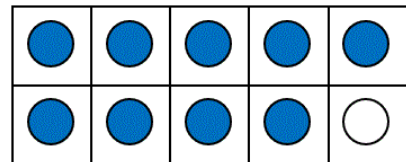
9)



¿Cuántos
hay?

7

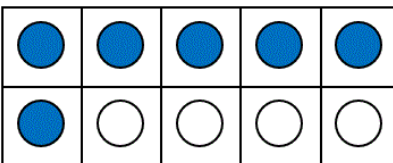
10)



¿Cuántos
hay?

9

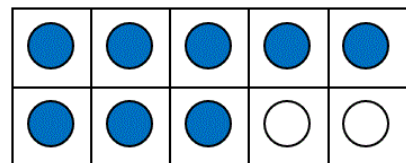
11)



¿Cuántos
hay?

6

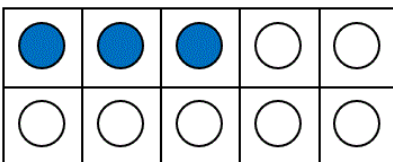
12)



¿Cuántos
hay?

8

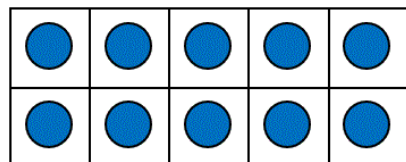
13)



¿Cuántos
hay?

3

14)



¿Cuántos
hay?

10

