





## PROBLEMAS DE DIVISIÓN 4,1C - RESPUESTAS

<p>1) Divide a los 133 niños en equipos de 7. ¿Cuántos equipos habrá?</p>	<p><math>133 \div 7 = 19.</math> Habrá 19 equipos.</p>	
<p>2) Comparte 104 cartas entre 8 personas. ¿Cuántas cartas tiene cada uno?</p>	<p><math>104 \div 8 = 13.</math> Habrá 13 cartas para cada uno.</p>	
<p>3) Divide 192 huevos en cajas de 6 huevos. ¿Cuántas cajas puedo llenar?</p>	<p><math>192 \div 6 = 32.</math> Puedes llenar 32 casillas.</p>	
<p>4) Comparte 162 chocolates entre 9 niños. ¿Cuántos bombones recibirá cada uno?</p>	<p><math>162 \div 9 = 31.</math> Cada niño recibiría 31 bombones.</p>	
<p>5) Divide 272 lápices en paquetes de 8. ¿Cuántos paquetes haré?</p>	<p><math>272 \div 8 = 34.</math> Harías 34 paquetes.</p>	
<p>6) Reparte 259 huesos entre 7 perros. ¿Cuántos huesos obtendrá cada perro?</p>	<p><math>259 \div 7 = 37.</math> Cada perro obtendría 37 huesos.</p>	

