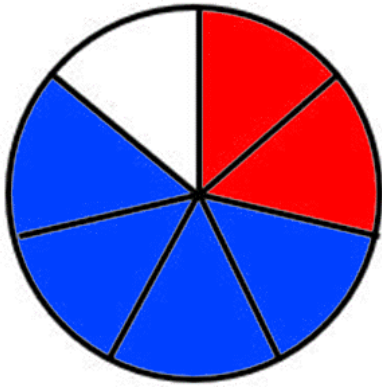


CÍRCULOS DE FRACCIONES 2 - RESPUESTAS

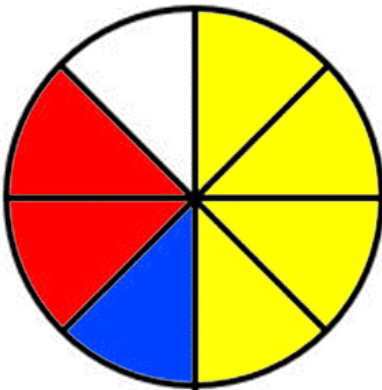


Colorea 2 partes en rojo. Colorea 3 partes en azul.

¿Qué fracción es roja? $\frac{2}{7}$

¿Qué fracción es azul? $\frac{4}{7}$

¿Qué fracción no está Coloreada? $\frac{1}{7}$



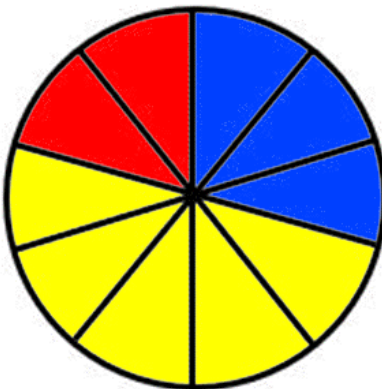
Colorea 4 partes en amarillo. Colorea 1 partes en azul. Colorea 2 partes en rojo.

¿Qué fracción es amarilla? $\frac{4}{8}$ o $\frac{1}{2}$

¿Qué fracción es azul? $\frac{1}{8}$

¿Qué fracción es roja? $\frac{2}{8}$ o $\frac{1}{4}$

¿Qué fracción no está Coloreada? $\frac{1}{8}$



Colorea 3 partes en azul. Colorea 5 partes en amarillo. Colorea 2 partes en rojo.

¿Qué fracción es azul? $\frac{3}{10}$

¿Qué fracción es amarilla? $\frac{5}{10}$ o $\frac{1}{2}$

¿Qué fracción es roja? $\frac{2}{10}$ or $\frac{1}{5}$

