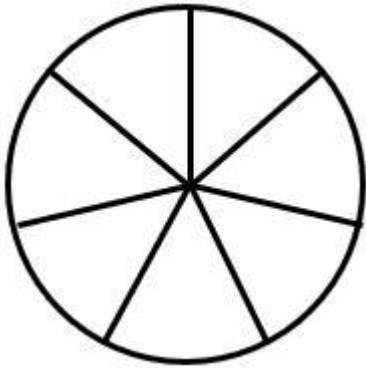


## CÍRCULOS DE FRACCIONES 2

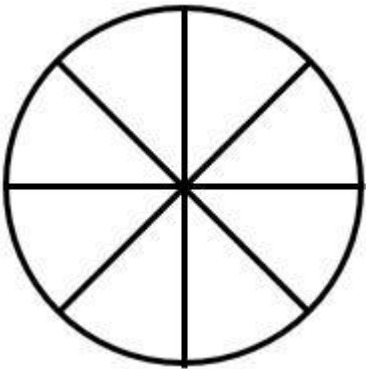


**Colorea 2 partes en rojo. Colorea 3 partes en azul.**

¿Qué fracción es roja? \_\_\_\_\_

¿Qué fracción es azul? \_\_\_\_\_

¿Qué fracción no está Coloreada? \_\_\_\_\_

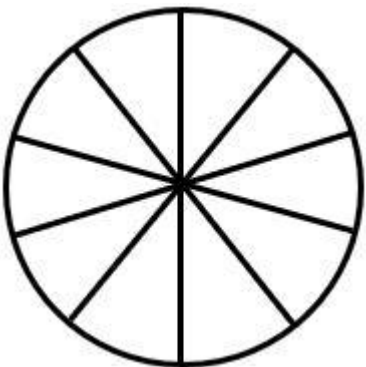


**Colorea 4 partes en amarillo. Colorea 1 parte en azul. Colorea 2 partes en rojo.**

¿Qué fracción es amarilla? \_\_\_\_\_

¿Qué fracción es azul? \_\_\_\_\_

¿Qué fracción es roja? \_\_\_\_\_



**Colorea 3 partes en azul. Colorea 5 partes en amarillo. Colorea 1 parte en rojo.**

¿Qué fracción es azul? \_\_\_\_\_

¿Qué fracción es amarilla? \_\_\_\_\_

¿Qué fracción es roja? \_\_\_\_\_

¿Qué fracción no está Coloreada? \_\_\_\_\_

