
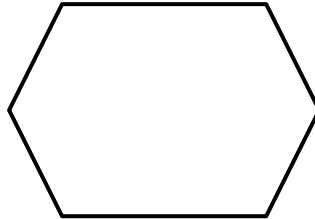


PROPIEDADES DE LA FORMA 2D - HOJA 1


Para cada una de las formas a continuación, completa el número de lados, marca y anota el número de ángulos rectos, y escribe el nombre de la forma.



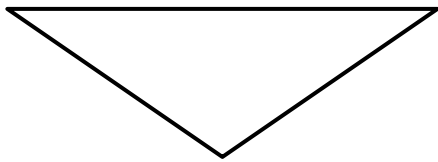
Lados:
Ángulos rectos:
Nombre de la forma



Lados:
Ángulos rectos:
Nombre de la forma



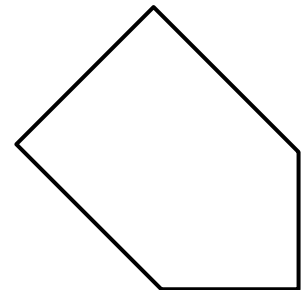
Lados:
Ángulos rectos:
Nombre de la forma



Lados:
Ángulos rectos:
Nombre de la forma



Lados:
Ángulos rectos:
Nombre de la forma



Lados:
Ángulos rectos:
Nombre de la forma

Pentágono

Paralelogramo

Triángulo

Triángulo isósceles

Hexágono

Rectángulo

Rectángulo

