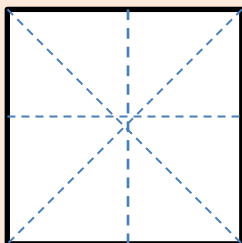


## PROPIEDADES DE LA FORMA 2D - HOJA 3

Para cada una de las formas siguientes,

- dibuja las líneas de simetría en cada forma;
- nombrar cada forma.


El primero ha sido realizado para ti.



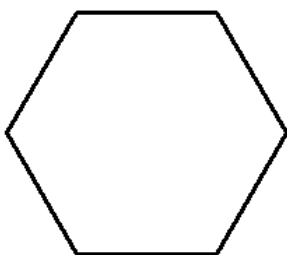
Lados: 4  
Líneas de simetría: 4  
Nombre de la forma  
Cuadrado



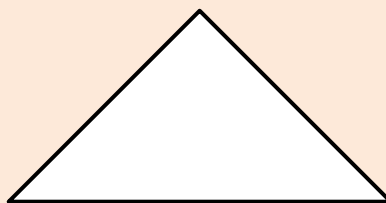
Lados:  
Líneas de simetría:  
Nombre de la forma



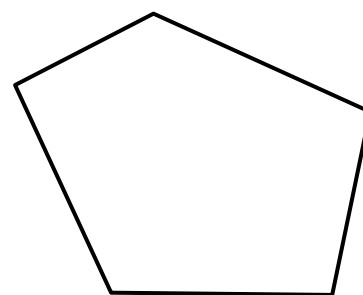
Lados:  
Líneas de simetría:  
Nombre de la forma



Lados:  
Líneas de simetría:  
Nombre de la forma



Lados:  
Líneas de simetría:  
Nombre de la forma



Lados:  
Líneas de simetría:  
Nombre de la forma

