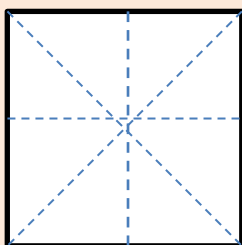


PROPIEDADES DE LA FORMA 2D - HOJA 3

Para cada una de las formas siguientes,

- dibuja las líneas de simetría en cada forma;
- nombrar cada forma.


El primero ha sido realizado para ti.



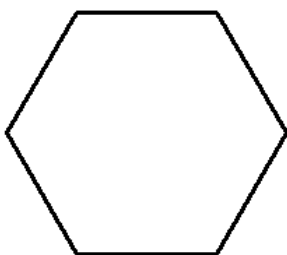
Lados: 4
Líneas de simetría: 4
Nombre de la forma
Cuadrado



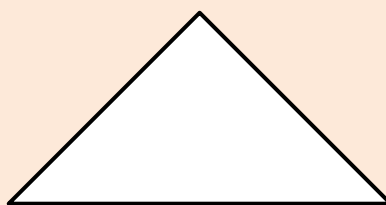
Lados:
Líneas de simetría:
Nombre de la forma



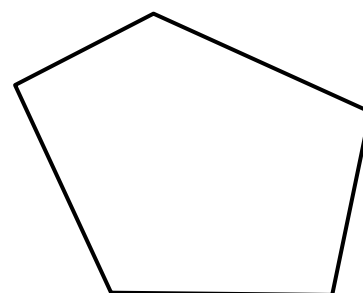
Lados:
Líneas de simetría:
Nombre de la forma




Lados:
Líneas de simetría:
Nombre de la forma



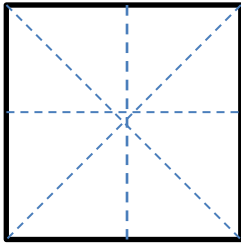
Lados:
Líneas de simetría:
Nombre de la forma



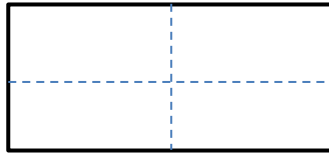
Lados:
Líneas de simetría:
Nombre de la forma



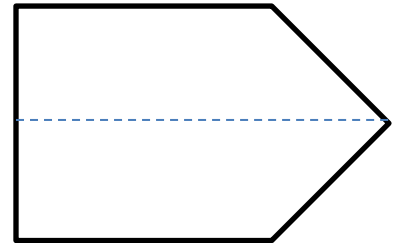
PROPIEDADES DE LA FORMA 2D - HOJA 3 - RESPUESTAS



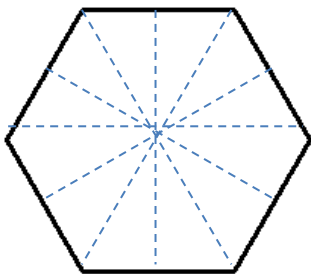
Lados: 4
Líneas de simetría: 4
Nombre de la forma
Cuadrado



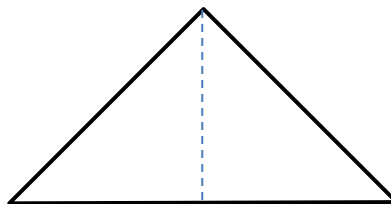
Lados: 4
Líneas de simetría: 2
Nombre de la forma
Rectángulo



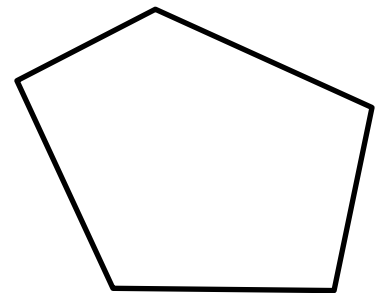
Lados: 5
Líneas de simetría: 1
Nombre de la forma
Pentágono



Lados: 6
Líneas de simetría: 6
Nombre de la forma
hexágono (regular)



Lados: 4
Líneas de simetría: 2
Nombre de la forma
Triángulo isósceles



Lados: 5
Líneas de simetría: 0
Nombre de la forma
Pentágono

