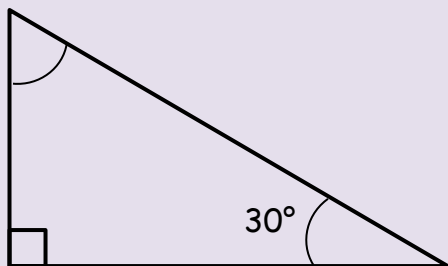


ÁNGULOS EN UN TRIÁNGULO 1

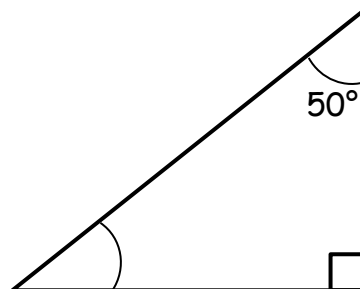


Calcula los ángulos que faltan. Recuerda que los ángulos de un triángulo suman 180° . Los ángulos no están dibujados a escala, así que no intentes medirlos!

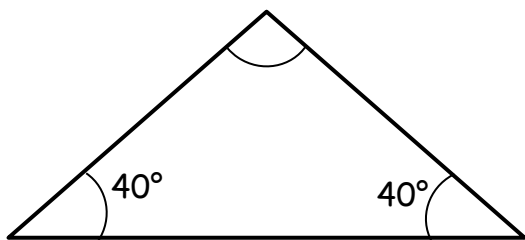
1)



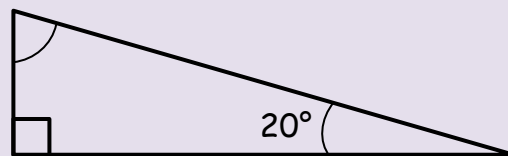
2)



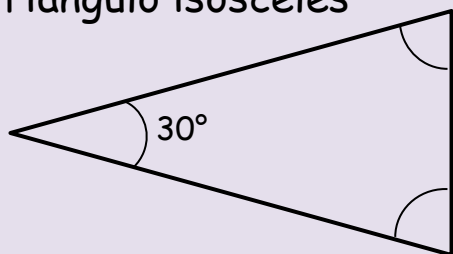
3)



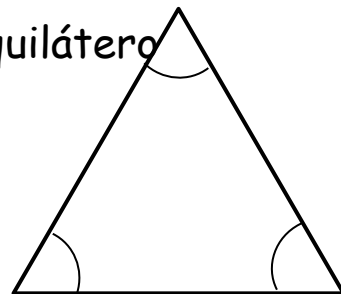
4)



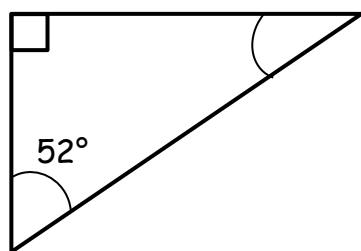
5) Triángulo isósceles



6) Triángulo equilátero



7)



8)

Triángulo isósceles

