


PROBLEMAS DE ADICIÓN A 15 - HOJA 1

Espacio de trabajo

1)

Hay 6 .


Vienen 5  más.

¿Cuántas hay ahora? _____

2)

Tengo 7 .

Me dan 5  más.

¿Cuántas tengo? _____ 

3)

Bert tiene 4 .


Bill tiene 8 .

¿Cuántos hay en total? _____

4)

Una tienda vende 8  los lunes, y 5

 los martes.

¿Cuántos en total? _____ 

5)

Compro 7  el miércoles.

Compro 4  el viernes.

¿Cuántos compré? _____ 



PROBLEMAS DE ADICIÓN A 15 -RESPUESTAS - HOJA 1

Espacio de trabajo

1)

Hay 6 .

Vienen 5  más.




¿Cuántas hay ahora? 11

2)

Tengo 7 .

Me dan 5  más.



¿Cuántos tengo? 12 

3)

Bert tiene 4 .

Bill tiene 8 .



¿Cuántos en total? 12

4)

Una tienda vende 8  los lunes, y 5



los martes.



¿Cuántos en total? 13 

5)

Compro 7  el miércoles.

Compro 4  el viernes.



¿Cuántos compré? 11 

