


PROBLEMAS DE SUMA Y RESTA HASTA 15 - HOJA 1

EJERCITANDO

1)

Yo tengo 8 .

Compro 4  más.

¿Cuántos tengo ahora? _____


2)


Existen 13 .

3  se alejan.

¿Cuántos quedan? _____


3)

Newton tiene 14 .

Sally tiene 11 .

¿Cuál es la diferencia? _____


4)

Existen 10  en un estacionamiento.

5 más  estacionan allí.

¿Cuántos hay en total? _____

5)

Frazer tiene 6 .

Flame tiene 7 .

¿Cuál es la suma? _____

