


PROBLEMAS DE SUMA Y RESTA HASTA 15

HOJA 3 - RESPUESTAS


EJERCITANDO

1) Existen 13  .

$$13 - 6 = 7$$

6  se alejan.

 ¿Cuántos quedan? 7

2) Una tienda vende 5  el Lunes.

$$5 + 3 + 4 = 12$$

Vende 3  el Martes y 4  el Miércoles

 ¿Cuántos vendió en total? 12

3) Existen 15  .

$$15 - 8 = 7$$


8  se cortan.


 ¿Cuántos quedan? 7

4) Existen 11  .

$$11 + 4 = 15$$

4 más  aparecen.

 ¿Cuántos hay en total? 15

5) El Capitán tiene 6  .

$$6 + 3 + 5 = 14$$

Newton tiene 3  .

Sally tiene 5  .

 ¿Cuál es la suma? 15

