



PROBLEMAS DE SUMA Y RESTA HASTA 15 - HOJA 3

EJERCITANDO

1) Existen 13  .

6  se alejan.


¿Cuántos quedan? _____

2) Una tienda vende 5  el Lunes.

Vende 3  el Martes y 4  el Miércoles.

¿Cuántos vendió en total? _____

3) Existen 15  .

8  se cortan.

¿Cuántos quedan? _____

4) Existen 11  .

4 más  aparecen.

¿Cuántos hay en total? _____

5) El Capitán tiene 6  .

Newton tiene 3  .

Sally tiene 5  .

¿Cuál es la suma? _____

