




PROBLEMAS DE SUMA Y RESTA HASTA 20

HOJA 1 - RESPUESTAS



EJERCITANDO

- 1) Una tienda tiene 18  .
5  están vendidos.
¿Cuántos quedan? _____

$$18 - 5 = 3$$

- 2) Existen 12  en un aeropuerto.
6 más  aterrizan.
¿Cuántos en total? _____



$$12 + 6 = 18$$

- 3) El Capitán hace 17  .
16  son arrastrados.
¿Cuánto es 17 menos 16? _____

$$17 - 16 = 1$$

- 4) Existen 12  .
7 más  aparecen.
¿Cuántos  hay en total? _____

$$12 + 7 = 19$$

- 5) Bill compra 17  .
Bert compra 10  .
¿Cuál es la diferencia? _____

$$17 - 10 = 7$$

