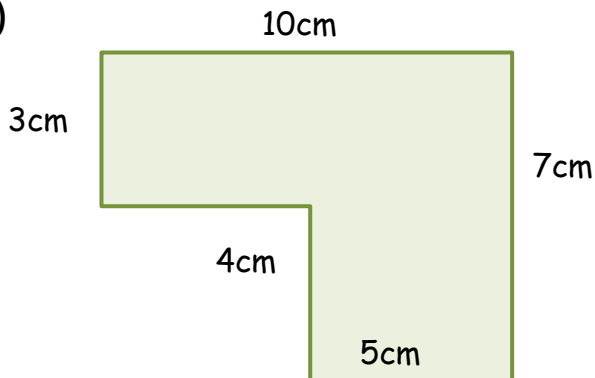


ÁREA Y PERÍMETRO - HOJA 4

Calcula el área y el perímetro de las siguientes formas encontrando los lados que faltan. Las formas no están a escala.

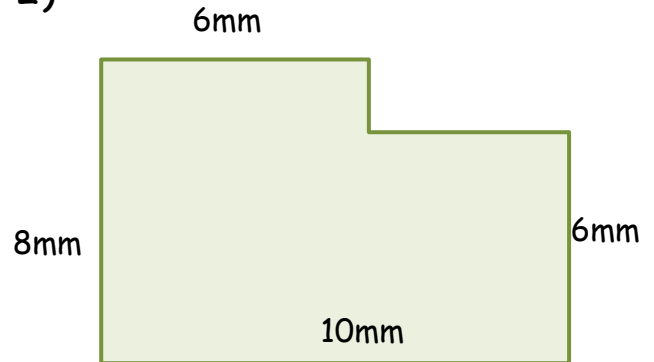
1)



Área = _____ cm cuadrados (cm^2)

Perímetro = _____ m

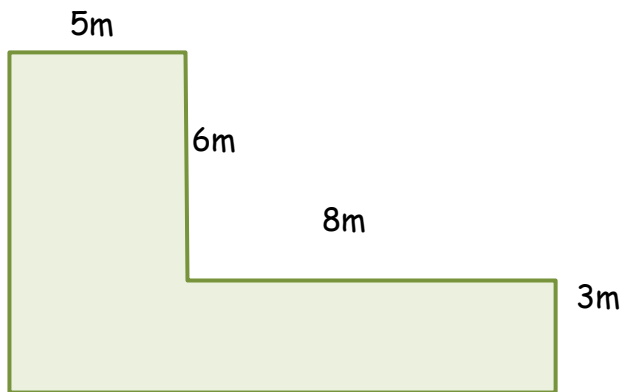
2)



Área = _____ mm cuadrados (mm^2)

Perímetro = _____ mm

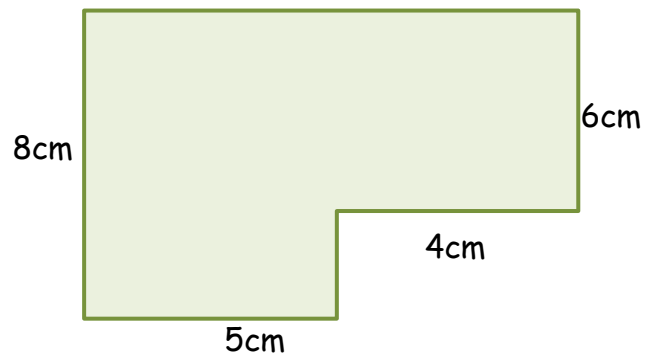
3)



Área = _____ m cuadrados (m^2)

Perímetro = _____ m

4)



Área = _____ cm cuadrados (cm^2)

Perímetro = _____ cm

