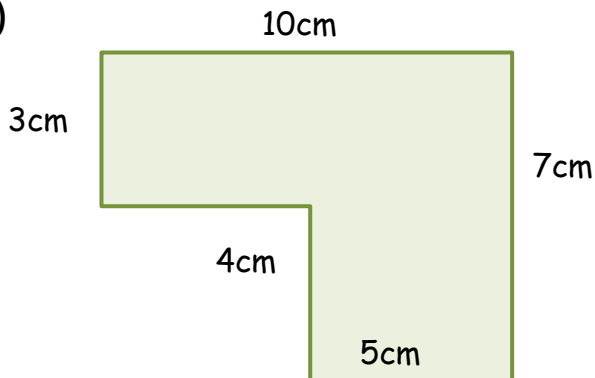


ÁREA Y PERÍMETRO - HOJA 4

Calcula el área y el perímetro de las siguientes formas encontrando los lados que faltan. Las formas no están a escala.

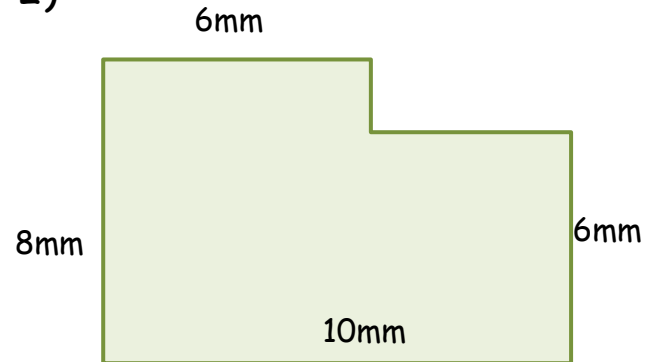
1)



Área = _____ cm cuadrados (cm^2)

Perímetro = _____ m

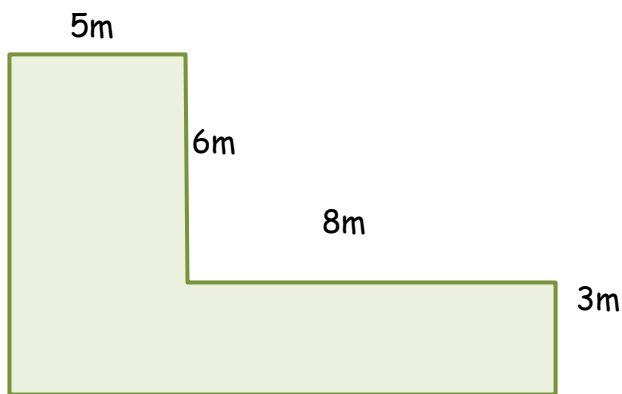
2)



Área = _____ mm cuadrados (mm^2)

Perímetro = _____ mm

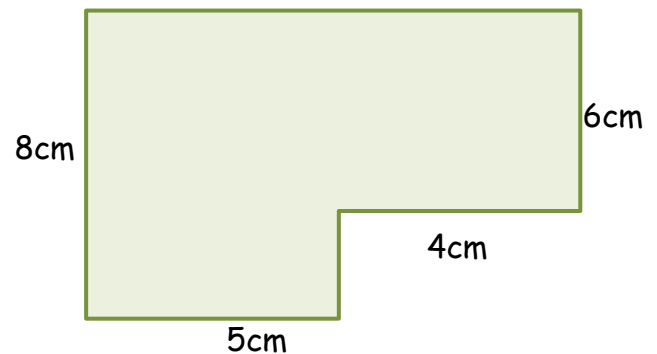
3)



Área = _____ m cuadrados (m^2)

Perímetro = _____ m

4)



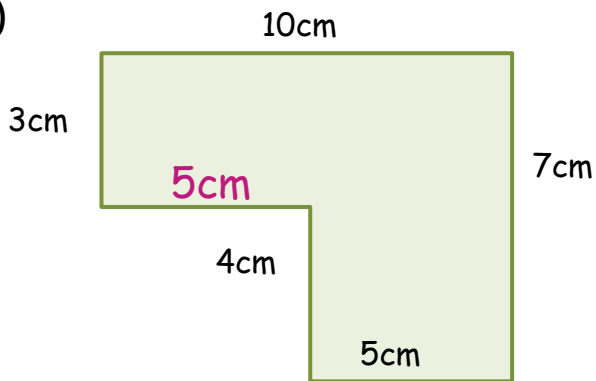
Área = _____ cm cuadrados (cm^2)

Perímetro = _____ cm



ÁREA Y PERÍMETRO- HOJA 4 - RESPUESTAS

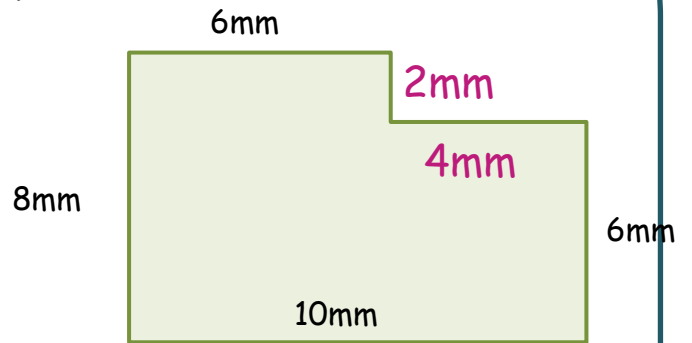
1)



Área = 50 cm cuadrados (cm^2)

Perímetro = 34 cm

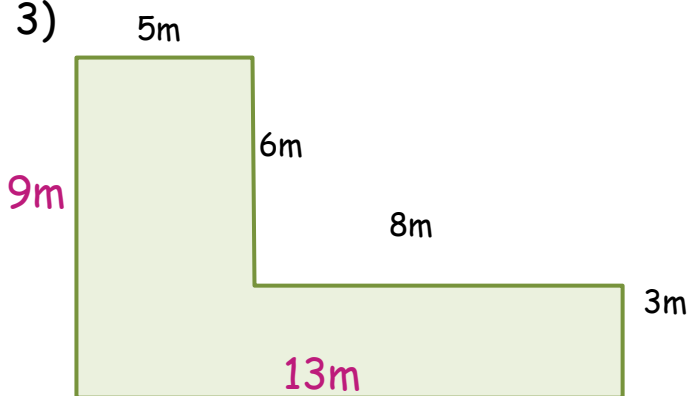
2)



Área = 72 mm cuadrados (mm^2)

Perímetro = 36 mm

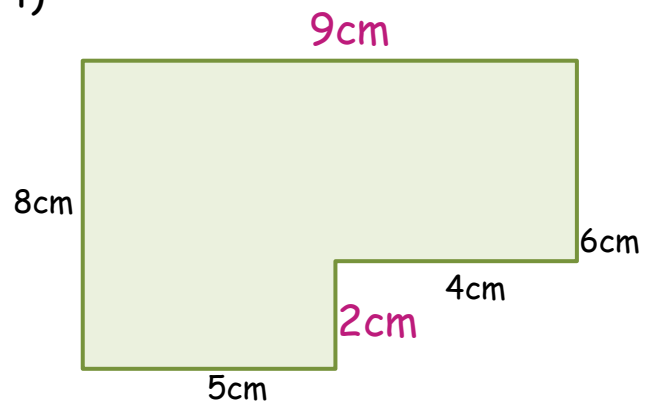
3)



Área = 69 m cuadrados (m^2)

Perímetro = 44 m

4)



Área = 64 cm cuadrados (cm^2)

Perímetro = 34 cm

