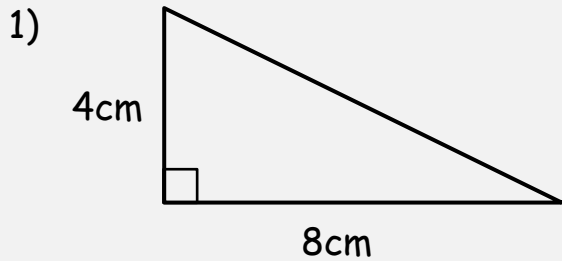
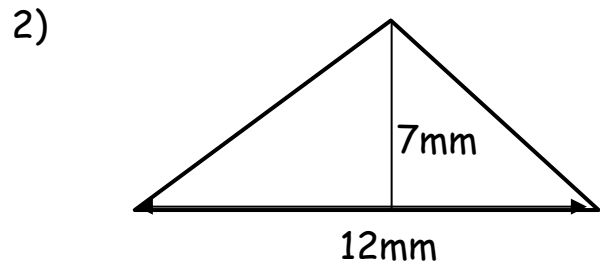


## ÁREA DEL TRIÁNGULO - HOJA 2

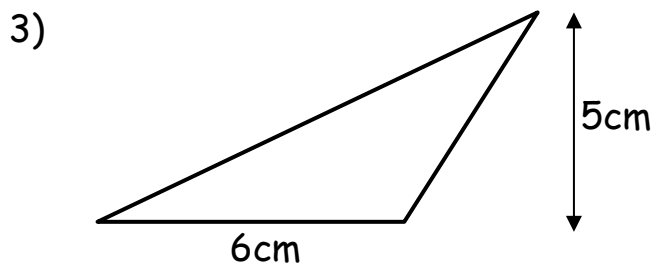
Calcula el área de los siguientes triángulos. No están dibujados a escala.  
Usa la fórmula al final de la página para ayudarte.



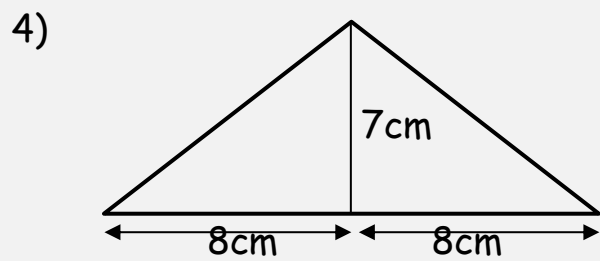
Área = \_\_\_\_\_ cm<sup>2</sup>



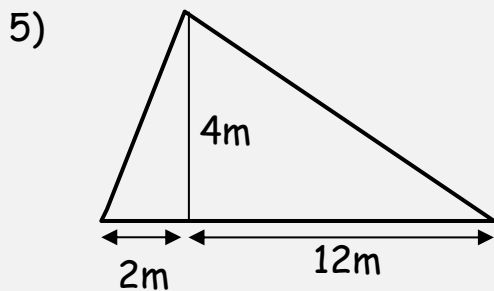
Área = \_\_\_\_\_



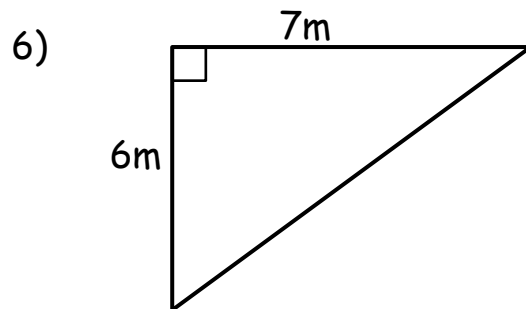
Área = \_\_\_\_\_



Área = \_\_\_\_\_



Área = \_\_\_\_\_



Área = \_\_\_\_\_

Pista útil:

La fórmula para el área de un triángulo es

$$\frac{1}{2} \times \text{base} \times \text{altura (perpendicular)}$$

