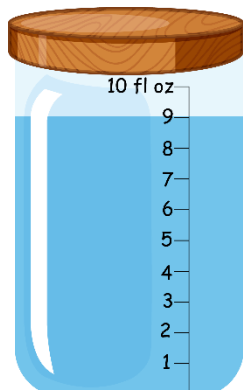


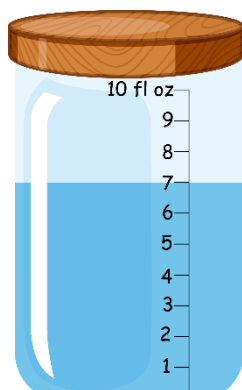
LEYENDO ESCALAS 1D

Utiliza tu conocimiento del sistema numérico para leer estas escalas que suben de a uno y de cinco en cinco.

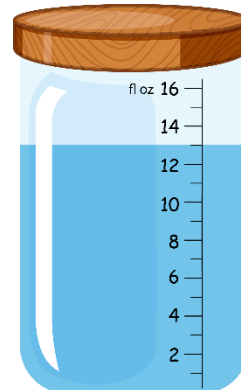
1) ¿Cuántas onzas líquidas hay? ____



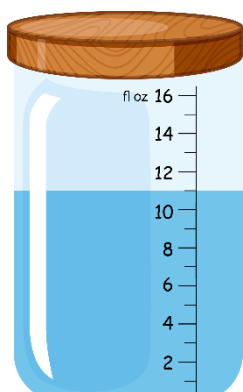
2) ¿Cuántas onzas líquidas hay? ____



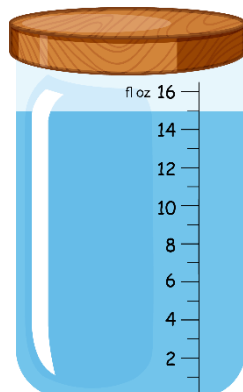
3) ¿Cuántas onzas líquidas hay? ____



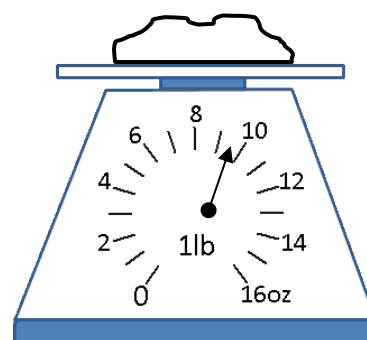
4) ¿Cuántas onzas líquidas hay? ____



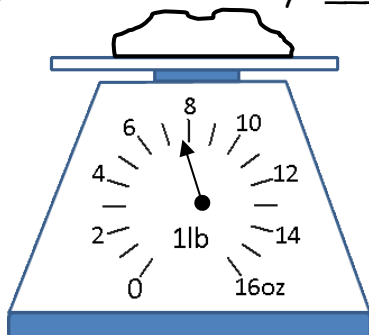
5) ¿Cuántas onzas líquidas hay? ____



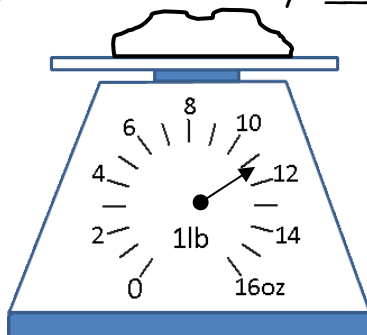
6) ¿Cuántas onzas hay? ____



7) ¿Cuántas onzas hay? ____



8) ¿Cuántas onzas hay? ____



9) ¿Cuántas onzas hay? ____

