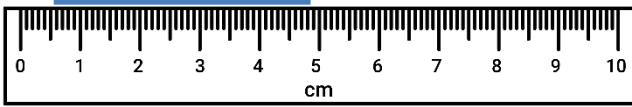
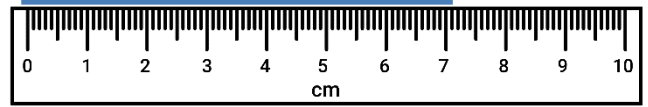


LEYENDO ESCALAS ESTÁNDARES 4A - RESPUESTAS

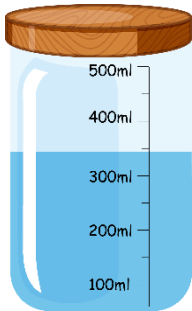
1) ¿Cuál es el largo? **4,3cm**



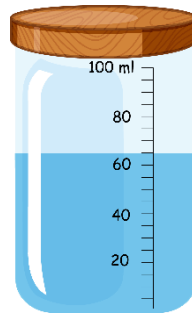
2) ¿Cuál es el largo? **7,2cm**



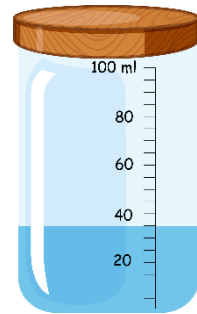
3) ¿Cuánto hay?
325ml



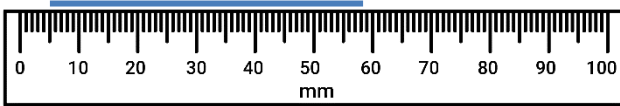
4) ¿Cuánto hay? **65ml**



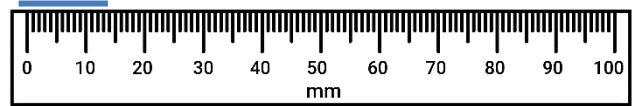
5) ¿Cuánto hay? **35ml**



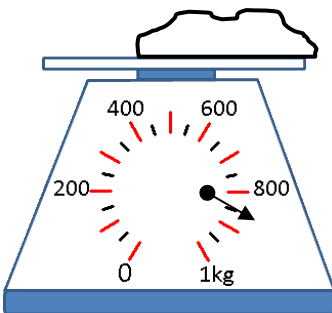
6) ¿Cuál es el largo? **53mm**



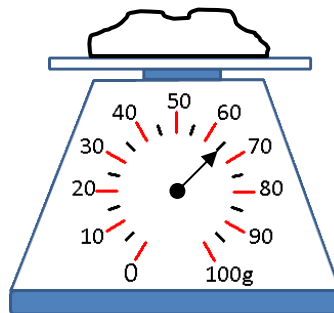
7) ¿Cuál es el largo? **15mm**



8) ¿Qué tan pesado es?
900g



9) ¿Qué tan pesado es?
65g



10) ¿Qué tan pesado es?
350g

