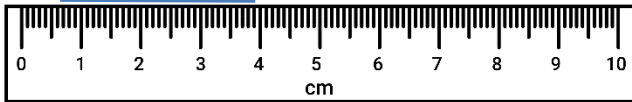


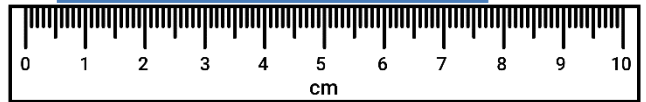
LEYENDO ESCALAS MÉTRICAS 4A

Utiliza tus conocimientos de fracción y el sistema numérico para calcular estas medidas. Recuerda anotar las unidades de medida.

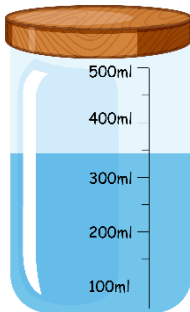
1) ¿Cuál es el largo? _____



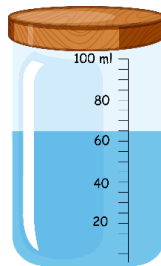
2) ¿Cuál es el largo? _____



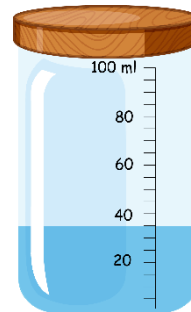
3) ¿Cuánto hay? _____



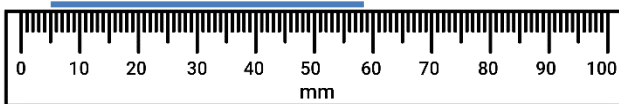
4) ¿Cuánto hay? _____



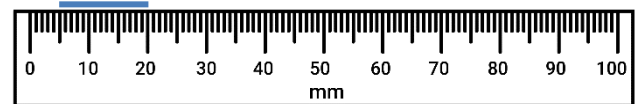
5) ¿Cuánto hay? _____



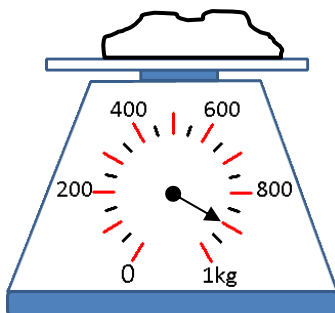
6) ¿Cuál es el largo? _____



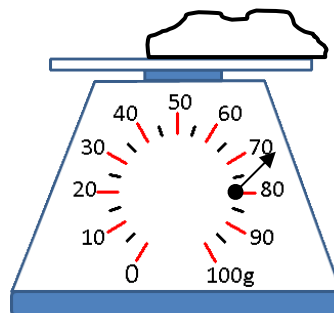
7) ¿Cuál es el largo? _____



8) ¿Qué tan pesado es? _____



9) ¿Qué tan pesado es? _____



10) ¿Qué tan pesado es? _____

