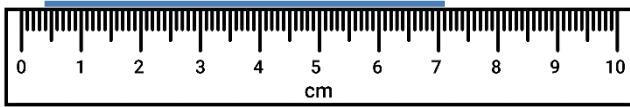
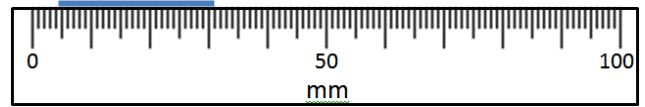


LEYENDO ESCALAS ESTÁNDARES 4D - RESPUESTAS

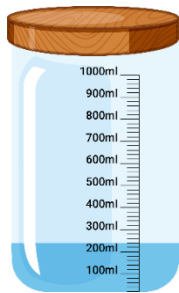
1) ¿Cuánto mide? **6,7cm**



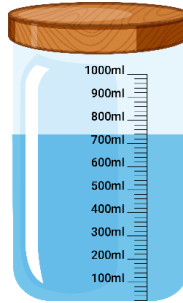
2) ¿Cuánto mide? **26mm**



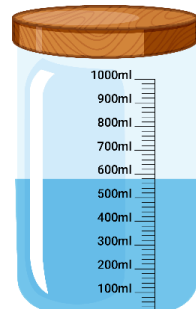
3) ¿Cuánto hay? **240ml**



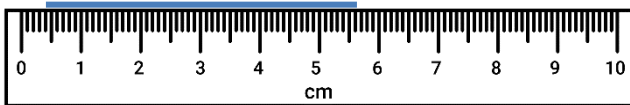
4) ¿Cuánto hay? **760ml**



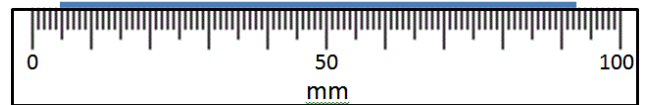
5) ¿Cuánto hay? **580ml**



6) ¿Cuánto mide? **5,2cm**

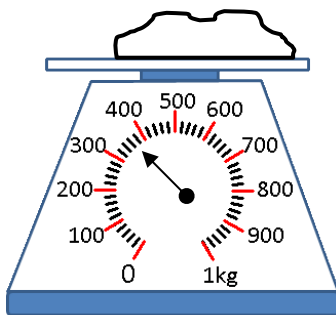


7) ¿Cuánto mide? **88mm**



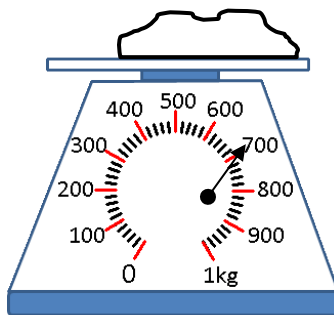
8) ¿Qué tan pesado?

320g



9) ¿Qué tan pesado?

640g



10) ¿Qué tan pesado?

880g

