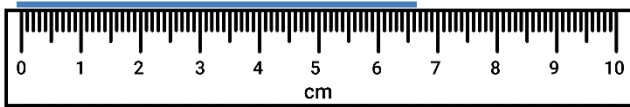


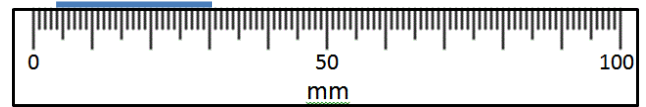
# LEYENDO ESCALAS MÉTRICAS 4D

Utiliza tus conocimientos de fracción y el sistema numérico para calcular estas medidas. Recuerda anotar las unidades de medida.

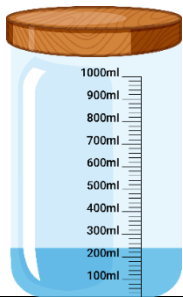
1) ¿Cuánto mide? \_\_\_\_\_



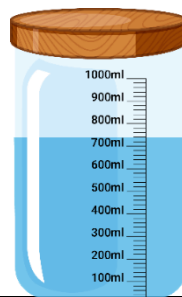
2) ¿Cuánto mide? \_\_\_\_\_



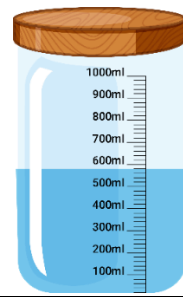
3) ¿Cuánto hay? \_\_\_\_\_



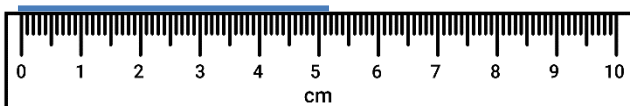
4) ¿Cuánto hay? \_\_\_\_\_



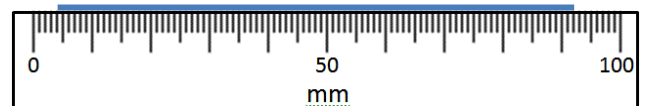
5) ¿Cuánto hay? \_\_\_\_\_



6) ¿Cuánto mide? \_\_\_\_\_

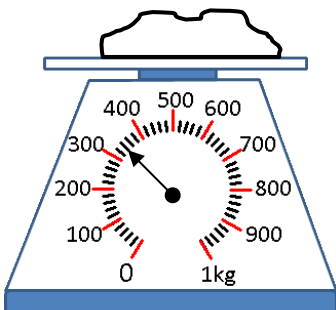


7) ¿Cuánto mide? \_\_\_\_\_



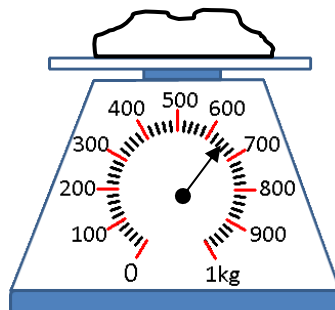
8) ¿Qué tan pesado? \_\_\_\_\_

\_\_\_\_\_



9) ¿Qué tan pesado? \_\_\_\_\_

\_\_\_\_\_



10) ¿Qué tan pesado? \_\_\_\_\_

\_\_\_\_\_

