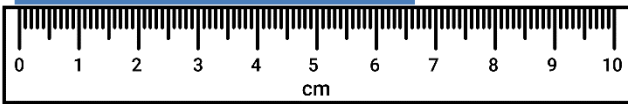


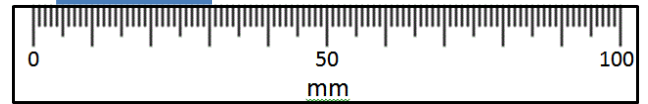
LEYENDO ESCALAS MÉTRICAS 4D

Utiliza tus conocimientos de fracción y el sistema numérico para calcular estas medidas. Recuerda anotar las unidades de medida.

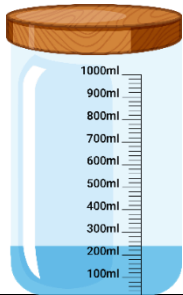
1) ¿Cuánto mide? _____



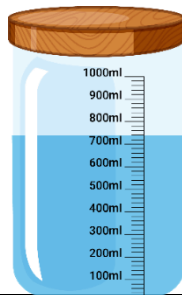
2) ¿Cuánto mide? _____



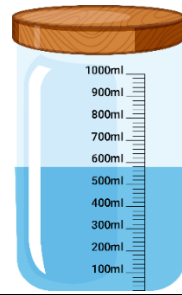
3) ¿Cuánto hay? _____



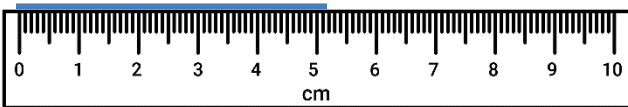
4) ¿Cuánto hay? _____



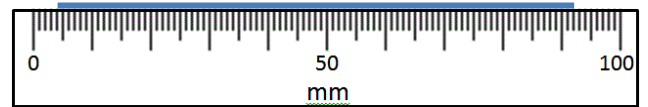
5) ¿Cuánto hay? _____



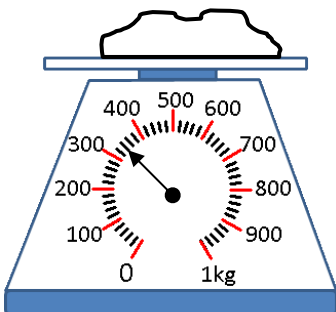
6) ¿Cuánto mide? _____



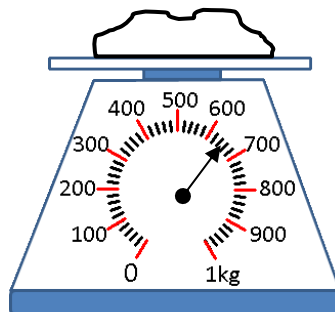
7) ¿Cuánto mide? _____



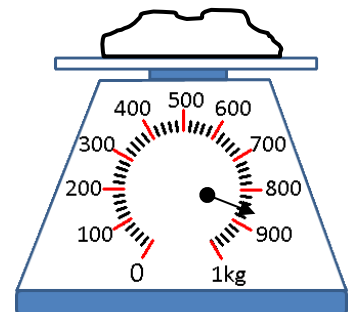
8) ¿Qué tan pesado? _____



9) ¿Qué tan pesado? _____

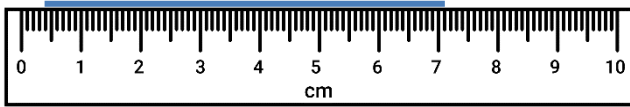


10) ¿Qué tan pesado? _____

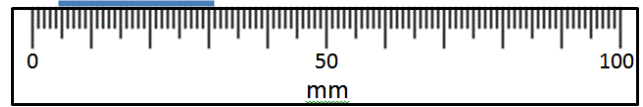


LEYENDO ESCALAS ESTÁNDARES 4D - RESPUESTAS

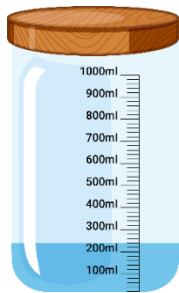
1) ¿Cuánto mide? **6,7cm**



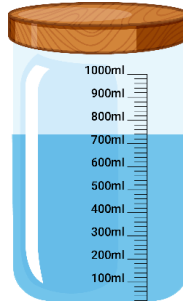
2) ¿Cuánto mide? **26mm**



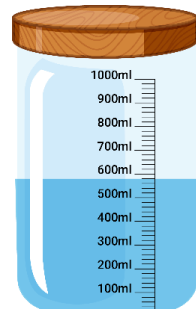
3) ¿Cuánto hay? **240ml**



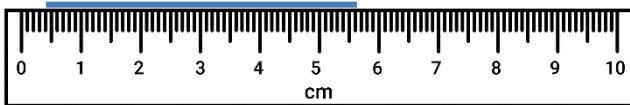
4) ¿Cuánto hay? **760ml**



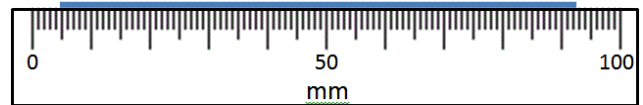
5) ¿Cuánto hay? **580ml**



6) ¿Cuánto mide? **5,2cm**

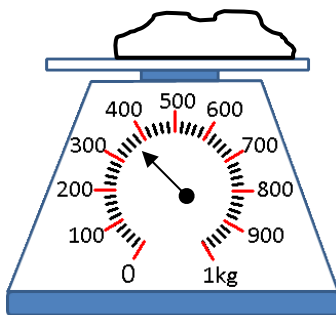


7) ¿Cuánto mide? **88mm**



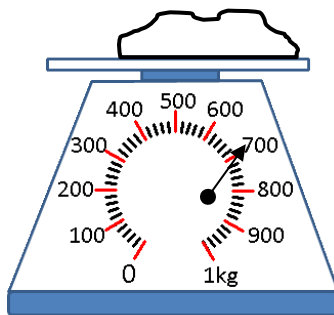
8) ¿Qué tan pesado?

320g



9) ¿Qué tan pesado?

640g



10) ¿Qué tan pesado?

880g

