

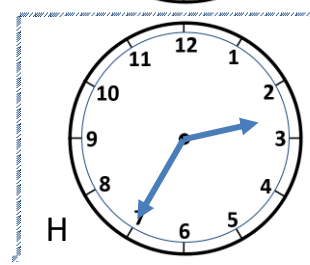
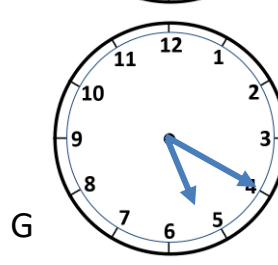
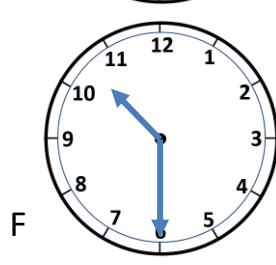
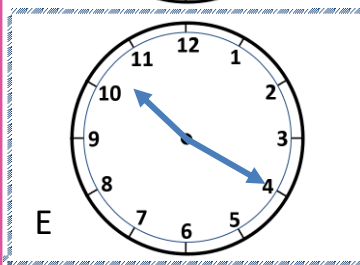
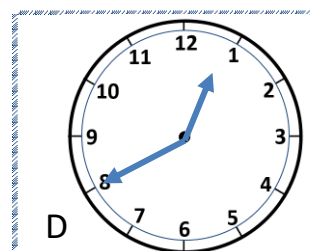
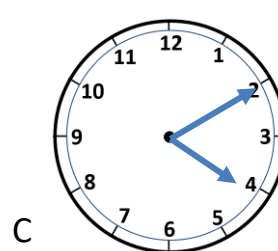
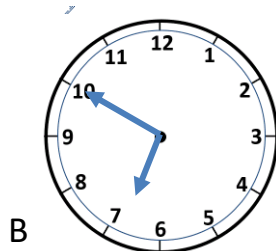
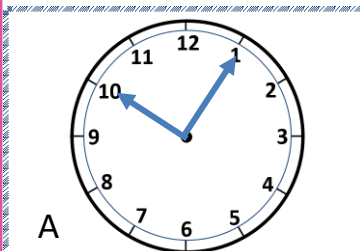
## LOS ACERTIJOS DE TIEMPO 3A

Usa las pistas para encontrar el reloj correcto entre las 8 posibilidades.

### DESAFÍO 1

- Estoy entre las 10 en punto y las 3 en punto.
- Mi minuterero está a menos de la mitad del reloj.
- Estoy a diez minutos de la hora y media.

¿Qué hora soy? \_\_\_\_\_



### DESAFÍO 2

- Estoy entre 2:00 y 11:00.
- Mi hora es par.
- Mi minuterero está a más de la mitad del reloj.
- Estoy a 10 minutos de la hora en punto.

¿Qué hora soy? \_\_\_\_\_

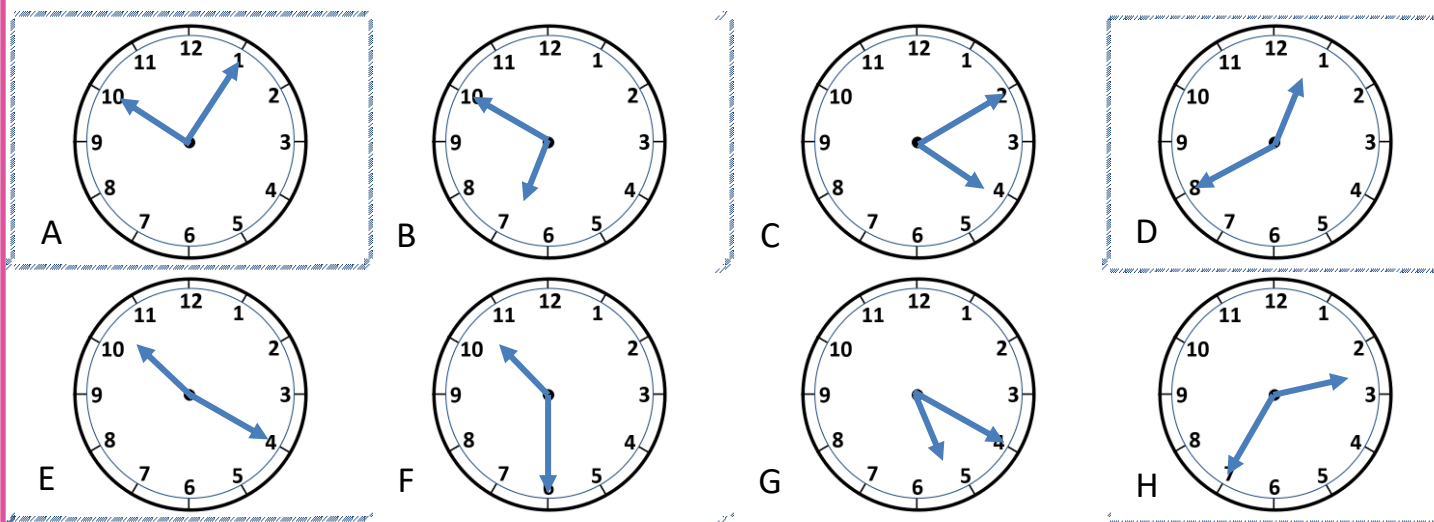


# LOS ACERTIJOS DE TIEMPO 3A RESPUESTAS

## DESAFÍO 1

- Estoy entre las 10 en punto y las 3 en punto.
- Mi minuterero está a menos de la mitad del reloj.
- Estoy a diez minutos de la hora y media.

¿Qué hora soy? Answer: E) 10:20



## DESAFÍO 2

- Estoy entre 2:00 y 11:00
- Mi hora es par.
- Mi minuterero está a más de la mitad del reloj.
- Estoy a 10 minutos de la hora en punto.

¿Qué hora soy? Respuesta: B) 6:50

