


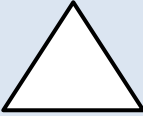
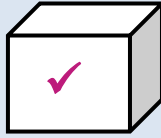










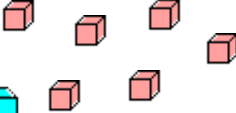


## PRUEBA DE CÁLCULO MENTAL 1:7 - RESPUESTAS

1)	¿Cuál es el total de 3, 5 y 6?	14
2)	¿Cuántos dimes hacen 30¢?	3
3)	<p>Marca todas las formas 3d que se muestran a continuación.</p> <div style="display: flex; justify-content: space-around; align-items: center;">       </div>	
4)	<p>¿Cuántas ranas más que arañas hay?</p> <div style="display: flex; justify-content: space-around; align-items: center;">   </div>	3
5)	¿Cuántas patas tienen 3 ranas?	12
6)	$80 + 6$	86
7)	<p>Compro 2 blocs de papel. Cada bloc tiene 10 hojas. ¿Cuántas hojas he comprado?</p>	20 hojas
8)	<p>¿Cuánto dinero hay?</p> <div style="display: flex; justify-content: center; align-items: center;">      </div>	27¢
9)	20 menos 4	16
10)	<p>¿Cuál es el siguiente número en la secuencia? 20, 18, 16, 14, 12, 10, ____</p>	8
11)	<p>¿Qué hora digital muestra el reloj?</p> <div style="text-align: right;">  </div>	2:00
12)	<p>¿Cuántos hay?</p> <div style="display: flex; justify-content: space-around; align-items: center;">   </div>	46

