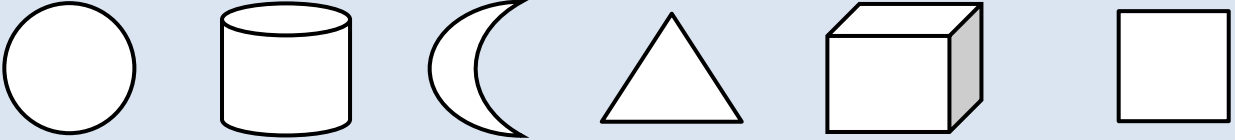





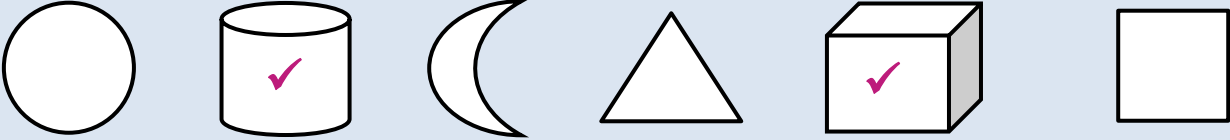



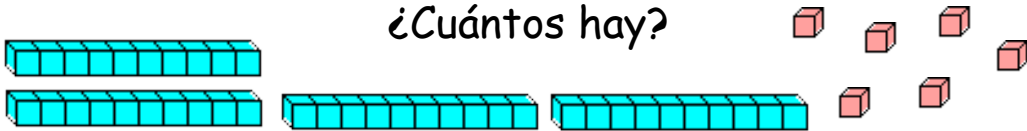


PRUEBA DE CÁLCULO MENTAL 1:7

1)	¿Cuál es el total de 3, 5 y 6?	
2)	¿Cuántos dimes hacen 30¢?	
3)	Marca todas las formas 3d que se muestran a continuación. 	
4)	¿Cuántas ranas más que arañas hay? 	
5)	¿Cuántas patas tienen 3 ranas?	
6)	$80 + 6$	
7)	Compro 2 blocs de papel. Cada bloc tiene 10 hojas. ¿Cuántas hojas tengo?	
8)	¿Cuánto dinero hay? 	¢
9)	20 menos 4	
10)	¿Cuál es el siguiente número en la secuencia? 20, 18, 16, 14, 12, 10, ____	
11)	¿Qué hora digital muestra el reloj? 	
12)	¿Cuántos hay? 	



PRUEBA DE CÁLCULO MENTAL 1:7 - RESPUESTAS

1)	¿Cuál es el total de 3, 5 y 6?	14
2)	¿Cuántos dimes hacen 30¢?	3
3)	<p>Marca todas las formas 3d que se muestran a continuación.</p> 	
4)	<p>¿Cuántas ranas más que arañas hay?</p> 	3
5)	¿Cuántas patas tienen 3 ranas?	12
6)	$80 + 6$	86
7)	<p>Compro 2 blocs de papel. Cada bloc tiene 10 hojas. ¿Cuántas hojas he comprado?</p>	20 hojas
8)	<p>¿Cuánto dinero hay?</p> 	27¢
9)	20 menos 4	16
10)	<p>¿Cuál es el siguiente número en la secuencia? 20, 18, 16, 14, 12, 10, ____</p>	8
11)	<p>¿Qué hora digital muestra el reloj?</p> 	2:00
12)	<p>¿Cuántos hay?</p> 	46

