





## PRUEBA DE CÁLCULOS MENTALES 2:9 - RESPUESTAS

|     |   |    |
|-----|---|----|
| 1)  | Encierra en un círculo todos los números impares.<br>18 26 <b>35</b> 42 50 <b>61</b>  |    |
| 2)  | ¿Cuál es el próximo número?<br>5 10 15 20 25 30 ____  | 35 |
| 3)  | Suma 7, 8 y 2.  | 17 |
| 4)  | ¿Cuántos vértices tiene esta forma?<br>   | 5  |
| 5)  | ¿Cuántas monedas de cinco hacen 2 decenas?  | 4  |
| 6)  | $8 + \underline{\quad} = 13$  | 5  |
| 7)  | ¿Cuántas decenas hay en 70p?  | 7  |
| 8)  | El Capitán tiene 7 coches de juguete. Sally tiene 2 coches menos que el Capitán.<br>¿Cuántos coches tienen en total?<br> | 12 |
| 9)  | 10 más 6  | 16 |
| 10) | Yo tengo:<br><br>¿Cuánto más necesito para tener 30p?  | 3p |
| 11) | Una cuerda para saltar tiene 3 metros de largo.<br>¿Cuánto miden 3 cuerdas?   | 9m |
| 12) | Encierra en un círculo la unidad que yo usaría para medir la longitud de un lápiz.<br><br><b>cm</b> m km g kg            |    |

