





## PRUEBA DE CÁLCULO MENTAL 2:9

1)	Encierra en un círculo todos los números impares.  18 26 35 42 50 61	
2)	¿Cuál es el próximo número? 5 10 15 20 25 30 ____	
3)	Suma 7, 8 y 2.	
4)	¿Cuántos vértices tiene esta forma?  	
5)	¿Cuántas monedas de cinco hacen 2 decenas?	
6)	$8 + \underline{\quad} = 13$	
7)	¿Cuántas decenas hay en 70p?	
8)	El Capitán tiene 7 coches de juguete. Sally tiene 2 coches menos que el Capitán. ¿Cuántos coches tienen en total?  	
9)	10 más 6	
10)	Yo tengo:   ¿Cuánto más necesito para tener 30p?	p
11)	Una cuerda para saltar tiene 3 metros de largo. ¿Cuánto miden 3 cuerdas?	m
12)	Encierra en un círculo la unidad que yo usaría para medir la longitud de un lápiz.    cm m km g kg	

