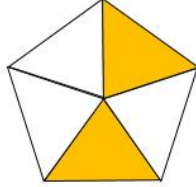
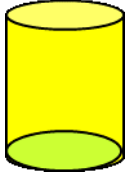
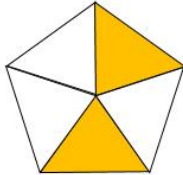
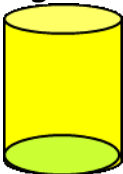


CÁLCULOS MENTALES - HOJA 3:A5

1)	17 - 8	
2)	Reduce a la mitad 18	
3)	¿Qué fracción está sombreada?	
4)	3 DECENAS = ____ CINCOS	
5)	¿Cuál es el nombre de esta figura?	
		
	cubo cono cilindro esfera pirámide	
6)	¿Cuántos cm hay en $\frac{1}{2}$ m?	
7)	200 + 40 + 9 =	
8)	¿Cuál es el próximo número? 30, 35, 40, 45, 50, ____	
9)	7 + 7 + 7 + 7 = ____ x 7	
10)	¿Qué número es 10 menos 54?	
11)	3 DECENAS + 3 CINCOS	
12)	¿Cuántos lados tiene un octágono?	
13)	¿Cuántos más es 14 que 8?	
14)	Corro 2 millas todos los días durante una semana. ¿Qué tan lejos he corrido?	
15)	1 yarda = 3 pies. ¿Cuántos pies hay en 5 yardas?	
16)	¿Cuál de estos números es impar? 260 152 386 351	



CÁLCULOS MENTALES - HOJA 3:A5 - RESPUESTAS

1)	$17 - 8$	9
2)	Reduce a la mitad 18	9
3)	¿Qué fracción está sombreada?	$\frac{2}{5}$
		
4)	3 DECENAS = ____ CINCOS	6
5)	¿Cuál es el nombre de esta figura?	Cilindro
		
	cubo cono cilindro esfera pirámide	
6)	¿Cuántos cm hay en $\frac{1}{2}$ m?	50
7)	$200 + 40 + 9 =$	249
8)	¿Cuál es el próximo número? 30, 35, 40, 45, 50, ____	55
9)	$7 + 7 + 7 + 7 =$ ____ $\times 7$	4
10)	¿Qué número es 54 menos 10?	44
11)	3 DECENAS + 3 CINCOS	45p
12)	¿Cuántos lados tiene un octágono?	8
13)	¿Cuántos más es 14 que 8?	6
14)	Corro 2 millas todos los días durante una semana. ¿Qué tan lejos he corrido?	14 millas
15)	1 yarda = 3 pies. ¿Cuántos pies hay en 5 yardas?	15
16)	¿Cuál de estos números es impar? 260 152 386 351	351

