
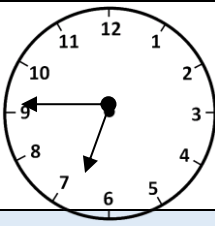


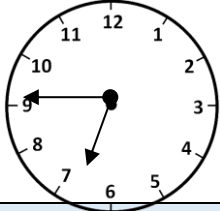


CÁLCULOS MENTALES HOJA 3:B4

1)	$\underline{\quad} - 4 = 8$	
2)	¿Cuántos mm en 12 cm?	
3)	¿Qué fracción necesito sombrear para formar un entero? 	
4)	Suma 479 A 200	
5)	572p = £ _____	
6)	Medio kilómetro = _____ m	
7)	¿Cuántos lados tiene un octágono?	
8)	¿Cuál es el más pequeño? 8 pulgadas 8 cm 8 m 8 yardas 8 mm 8 pies	
9)	¿Qué hora es? 	
10)	800 menos 6	
11)	Un estuche de CD contiene 25 CDS. ¿Cuántos CDS pueden contener 3 cajas?	
12)	La mitad de un número es 14. ¿Cuál es el número?	
13)	Maisie es 5 años más joven que Kyle. Kyle es 2 años mayor que Sam. Si Sam tiene 8 años, ¿cuántos años tiene Maisie?	
14)	Tengo 375p. Gasto £2. ¿Cuánto dinero me queda?	£
15)	¿Cuántas ruedas tienen los 6 triciclos?	
16)	Frazer tiene 16 tarjetas de fútbol que coloca en montones de 4 tarjetas. ¿Cuántas pilas hará?	



CÁLCULOS MENTALES - HOJA 3:B4 - RESPUESTAS

1)	___ - 4 = 8	12
2)	¿Cuántos mm en 12 cm?	120
3)	¿Qué fracción necesito sombrear para formar un entero? 	4/6 (o 2/3)
4)	Suma 479 a 200	679
5)	572p = £ _____	£5,72
6)	Medio kilómetro = _____ m	500
7)	¿Cuántos lados tiene un octágono?	8
8)	¿Cuál es el más pequeño? 8 pulgadas 8 cm 8 m 8 yardas 8 mm 8 pies	8mm
9)	¿Qué hora es? 	cuarto para las 7 o 6:45
10)	800 menos 6	794
11)	Un estuche de CD contiene 25 CDs. ¿Cuántos CDs pueden contener 3 cajas?	75
12)	La mitad de un número es 14. ¿Cuál es el número?	28
13)	Maisie es 5 años más joven que Kyle. Kyle es 2 años mayor que Sam. Si Sam tiene 8 años, ¿cuántos años tiene Maisie?	5años
14)	Tengo 375p. Gasto £2. ¿Cuánto dinero me queda?	£1,75
15)	¿Cuántas ruedas tienen los 6 triciclos?	18
16)	Frazer tiene 16 tarjetas de fútbol que coloca en montones de 4 tarjetas. ¿Cuántas pilas hará?	4

