

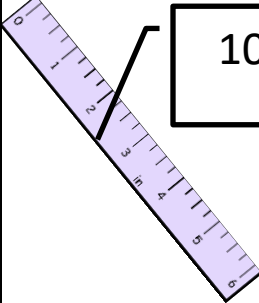





PROBLEMAS DE DINERO · Hoja #2-B



lápiz	bolígrafo	regla	tijeras
 <div>5¢</div>	 <div>7¢</div>	 <div>10¢</div>	 <div>30¢</div>

- 1) ¿Cuánto cuestan los 3 lápices? _____
- 2) ¿Cuánto cuesta una regla y un bolígrafo? _____
- 3) ¿Cuántas monedas de 10 centavos necesitaría para comprar unas tijeras?



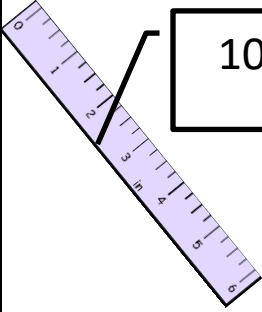

- 4) ¿Cuánto más cuesta una regla que un lápiz? _____
- 5) Frazer tiene las monedas a continuación. ¿Puede comprar una regla, un bolígrafo y un lápiz?



- 6) Sally compra 3 reglas y un lápiz. ¿Cuánto costará? _____
- 7) Newton tiene dos monedas de 10 centavos y una moneda de 5 centavos. ¿Cuánto dinero más necesita para comprar unas tijeras? _____
- 8) Si tuviera 3 monedas de 5 centavos, ¿podría comprar 2 bolígrafos?



PROBLEMAS DE DINERO · Hoja #2-B · Respuestas

lápiz	bolígrafo	regla	tijeras
 5¢	 7¢	 10¢	 30¢

- 1) ¿Cuánto cuestan los 3 lápices? 15 ¢
- 2) ¿Cuánto cuesta una regla y un bolígrafo? 17¢
- 3) ¿Cuántas monedas de 10 centavos necesitaría para comprar unas tijeras? 3
- 4) ¿Cuánto más cuesta una regla que un lápiz? 5 ¢
- 5) Frazer tiene las monedas a continuación. ¿Puede comprar una regla, un bolígrafo y un lápiz?



No, él necesita 1 bolígrafo más.

- 6) Sally compra 3 reglas y un lápiz. ¿Cuánto costará? 35 ¢
- 7) Newton tiene dos monedas de 10 centavos y una moneda de 5 centavos. ¿Cuánto dinero más necesita para comprar unas tijeras? 5 ¢
- 8) Si tuviera 3 monedas de 5 centavos, ¿podría comprar 2 bolígrafos? Sí, y te quedarían 1 ¢.

