

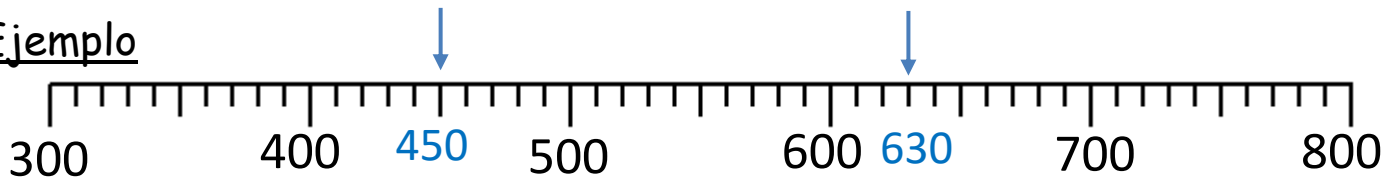
REDONDEANDO AL 100 MÁS CERCANO - HOJA 2



- Anota el valor de cada número marcado por una flecha.
- Redondea el número al 100 más cercano.

Recuerda: si el número está exactamente a la mitad, se redondea al siguiente 100.

Ejemplo



450 al 100 más cercano es 500

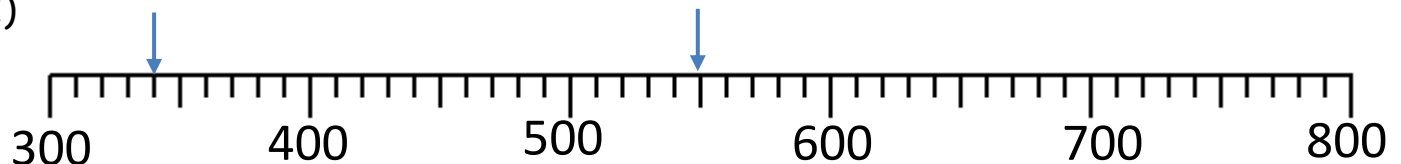
630 al 100 más cercano es 600

1)



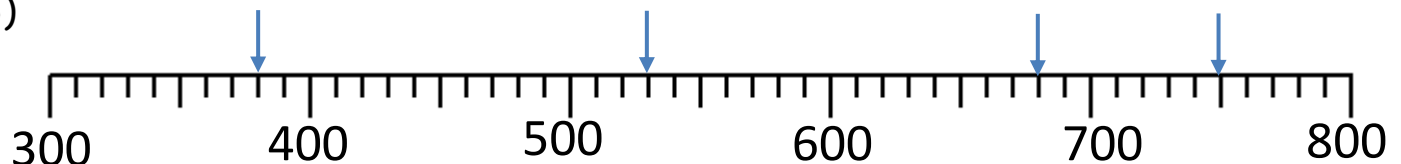
370 al 100 más cercano es _____ al 100 más cercano es _____

2)



_____ al 100 más cercano es _____ al 100 más cercano es _____

3)



_____ al 100 más cercano es _____ al 100 más cercano es _____

_____ al 100 más cercano es _____ al 100 más cercano es _____



REDONDEANDO AL 100 MÁS CERCANO - HOJA 2 - RESPUESTAS



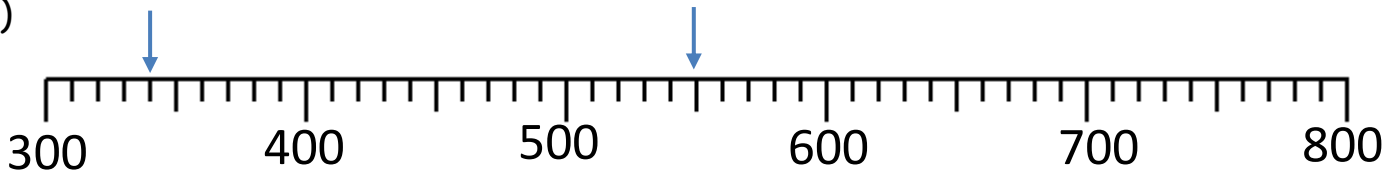
1)



370 al 100 más cercano es 400

710 al 100 más cercano es 700

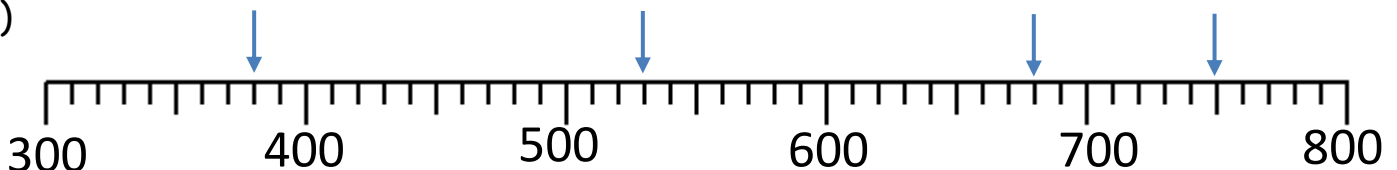
2)



340 al 100 más cercano es 300

550 al 100 más cercano es 600

3)



370 al 100 más cercano es 400

530 al 100 más cercano es 500

680 al 100 más cercano es 700

750 al 100 más cercano es 800

¡Recuerda contar con cuidado!

