




TABLA DEL 11 - COHETE - HOJA 1


Resuelve estas operaciones. Escribe la respuesta en el rastro del cohete.
Ayuda al Capitán Salamander encontrando pares de cohetes con un rastro total de 110.


¿De cuántas formas puedes hacerlo?


 $11 \times 3 =$


 $11 \times 11 =$


 $11 \times 8 =$


 $10 \times 11 =$


 $6 \times 11 =$


 $0 \times 11 =$


 $7 \times 11 =$

 $5 \times 11 =$

 $11 \times 12 =$

 $11 \times 9 =$

 $11 \times 10 =$

 $4 \times 11 =$

