

# TABLA DEL 12- PECES: HOJA 2 (x y ÷)

Escribe las respuestas a estas operaciones de multiplicación y división en las burbujas.



¿Puedes encontrar 3 burbujas que sumen 50?

$96 \div 12$




$3 \times 12$



$12 \times 4$



$12 \times 12$



$6 \times 12$



$0 \div 12$




$132 \div 12$

2

$24 \div 12$

9

$108 \div 12$




$8 \times 12$



$60 \div 12$



$10 \times 12$



$12 \times 5$



$7 \times 12$

