

# TABLA DEL 12- PECES: HOJA 2 (x y ÷)

Escribe las respuestas a estas operaciones de multiplicación y división en las burbujas.



¿Puedes encontrar 3 burbujas que sumen 50?

$96 \div 12$




$3 \times 12$




$12 \times 4$



$12 \times 12$



$6 \times 12$



$0 \div 12$



$132 \div 12$

2


$24 \div 12$

9


$8 \times 12$




$108 \div 12$



$60 \div 12$



$10 \times 12$



$12 \times 5$



$7 \times 12$



# TABLA DEL 12- PECES: HOJA 2 (x y ÷) - RESPUESTAS

Escribe las respuestas a estas operaciones de multiplicación y división en las burbujas.

¿Puedes encontrar 3 burbujas que sumen 50?  $48+2+0$ ;  $36+8+6$ ;  $36+9+5$ ;

The worksheet features several fish and bubbles. The fish are: two orange and white striped clownfish, two blue and yellow striped surgeonfish, and two yellow and orange striped surgeonfish. The bubbles contain the following numbers: 8, 36, 48, 144, 0, 11, 72, 2, 96, 9, 5, 100, 60, 84.

Operations and their corresponding bubbles:

- $96 \div 12$  (Bubble: 8)
- $3 \times 12$  (Bubble: 36)
- $12 \times 4$  (Bubble: 48)
- $12 \times 12$  (Bubble: 144)
- $6 \times 12$  (Bubble: 72)
- $0 \div 12$  (Bubble: 0)
- $132 \div 12$  (Bubble: 11)
- $24 \div 12$  (Bubble: 2)
- $8 \times 12$  (Bubble: 96)
- $108 \div 12$  (Bubble: 9)
- $60 \div 12$  (Bubble: 5)
- $10 \times 12$  (Bubble: 100)
- $12 \times 5$  (Bubble: 60)
- $7 \times 12$  (Bubble: 84)

