


## TABLA DEL 4 - PECES - HOJA 1



Escribe las respuestas a estas multiplicaciones en las burbujas.  
¿Puedes encontrar parejas de peces cuyas respuestas sumen 48?

$4 \times 3 =$




$6 \times 4 =$



$4 \times 5 =$



$2 \times 4 =$



$10 \times 4 =$




$3 \times 4 =$




$0 \times 4 =$




$4 \times 1 =$



$9 \times 4 =$



$4 \times 5 =$




$4 \times 8 =$



$4 \times 6 =$



$4 \times 10 =$



$7 \times 4 =$




# TABLA DEL 4 - PECES - HOJA 1 - RESPUESTAS



Escribe las respuestas a estas multiplicaciones en las burbujas.  
¿Puedes encontrar parejas de peces cuyas respuestas sumen 48?

40+8; 36+12; 32+16; 28+20

$4 \times 3 =$



12

24

$6 \times 4 =$




50

$4 \times 5 =$



$2 \times 4 =$

8



40

$10 \times 4 =$


$3 \times 4 =$

12



4

$4 \times 1 =$




0

$0 \times 4 =$



36

$9 \times 4 =$



20

$4 \times 5 =$



$4 \times 8 =$

32

$4 \times 6 =$

24



28

$7 \times 4 =$



40

$4 \times 10 =$

