


TABLA DEL 6 - COHETE - HOJA 1


RESPUESTAS


Resuelve estas operaciones. Escribe la respuesta en el rastro del cohete.
Ayuda al Capitán Salamander encontrando pares de cohetes con un rastro total de 60.





¿De cuántas formas puedes hacerlo?



$$6 \times 4 = 24$$



$$6 \times 8 = 48$$



$$6 \times 3 = 18$$



$$0 \times 6 = 0$$



$$6 \times 1 = 6$$



$$10 \times 6 = 60$$



$$5 \times 6 = 30$$


$$6 \times 8 = 48$$


$$6 \times 6 = 36$$


$$9 \times 6 = 54$$


$$6 \times 10 = 60$$


$$7 \times 6 = 42$$

