

TABLA DEL 6 - SALAMANDRA- HOJA 2 (x y ÷)

Escribe las respuestas a cada multiplicación o división en la bola de Sally Salamander.

 $12 \div 6 =$ 

 $6 \times 2 =$ 

 $18 \div 6 =$ 

 $24 \div 6 =$ 

 $8 \times 6 =$ 

 $6 \div 6 =$ 

 $6 \times 9 =$ 

 $60 \div 6 =$ 

 $7 \times 6 =$ 

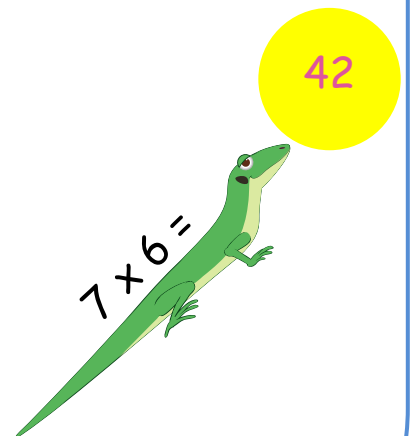
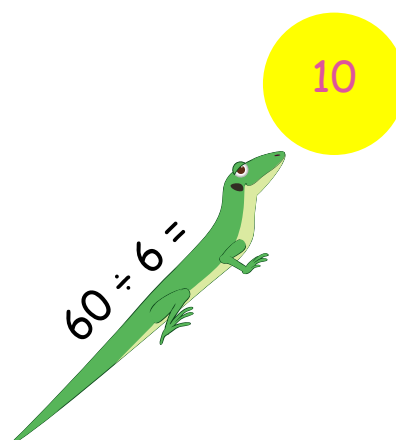
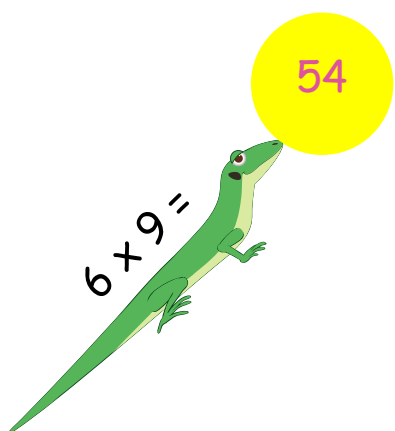



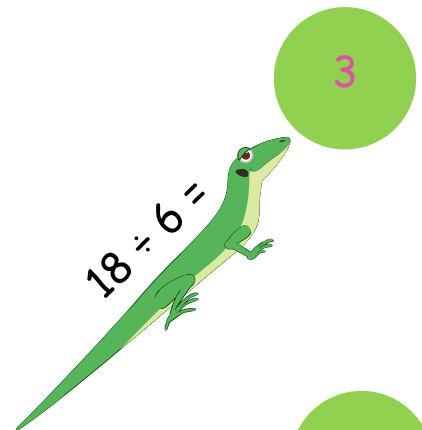
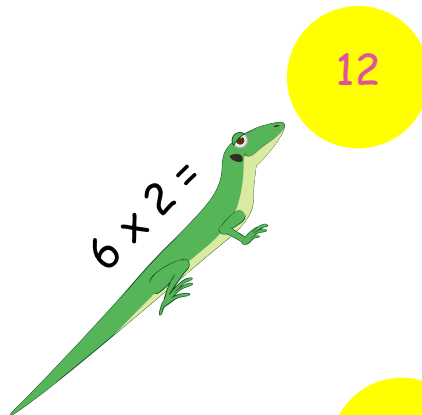

Colorea las respuestas impares en verde y las respuestas pares en amarillo.



TABLA DEL 6 - SALAMANDRA- HOJA 2 (x y ÷)

RESPUESTAS

Escribe las respuestas a cada multiplicación o división en la bola de Sally Salamander.



Colorea las respuestas impares en verde y las respuestas pares en amarillo.

