



TABLA DEL 8 - COHETE - HOJA 1





Resuelve estas operaciones. Escribe la respuesta en el rastro del cohete.
Ayuda al Capitán Salamander encontrando pares de cohetes con un rastro total de 80.


¿De cuántas formas puedes hacerlo?


 $8 \times 4 =$


 $5 \times 8 =$


 $8 \times 3 =$


 $0 \times 8 =$


 $6 \times 8 =$


 $10 \times 8 =$


 $8 \times 8 =$

 $8 \times 5 =$

 $8 \times 6 =$

 $9 \times 8 =$

 $8 \times 10 =$

 $7 \times 8 =$

