

# TABLA DEL 9 - PECES - HOJA 1

Escribe las respuestas a estas multiplicaciones en las burbujas.

Veamos si puedes encontrar pares de peces cuyas respuestas sumen 99.

$9 \times 4$



$5 \times 9$




$3 \times 9$



$2 \times 9$



$10 \times 9$



$6 \times 9$




$9 \times 1$



$0 \times 9$



$4 \times 9$




$7 \times 9$




$9 \times 9$



$9 \times 5$



$9 \times 6$



$9 \times 8$

