

TABLA DEL 9 - PECES - HOJA 1

Escribe las respuestas a estas multiplicaciones en las burbujas.

Veamos si puedes encontrar pares de peces cuyas respuestas sumen 99.

9×4



5×9




3×9



2×9



10×9



6×9




9×1



0×9



4×9




7×9




9×9



9×5



9×6



9×8



TABLA DEL 9 - PECES - HOJA 1

RESPUESTAS

Escribe las respuestas a estas multiplicaciones en las burbujas.
Mira si puedes encontrar parejas de peces cuyas respuestas sumen 99.

90+9; 81+18; 72+27; 63+36; 54+45

9×4



36

5×9



45

27

3×9



18

90

2×9




54

6×9



10×9



0

9


9×1



81

36

4×9



63




9×9

7×9



54


9×6



45

9×5

72



Visit us at www.mathcenter.org

Copyright © MathCenter 2020

