
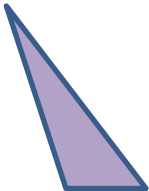
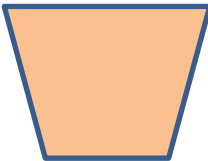

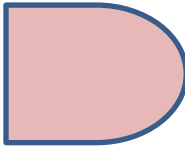



## DIAGRAMA DE VENN DE 3 CÍRCULOS - HOJA 3:2

Coloca las letras que representan cada forma, en los lugares correctos en este diagrama de Venn.

					
A	B	C	D	E	F

